

# 제 ③ 교시 실 과

1. ㉠에 공통으로 들어갈 말은?

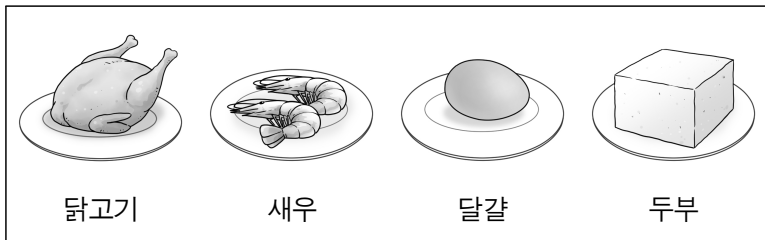
- ( ㉠ )은/는 가족이 함께 생활하는 곳을 말한다.
- ( ㉠ )생활은 가족을 중심으로 이루어지는 일상 생활을 뜻한다.

- ① 가정      ② 이웃      ③ 친구      ④ 학교

2. 다음 중 손바느질에 사용하는 도구의 쓰임새가 바르게 연결된 것은?

- ① 시침 핀 - 옷감을 고정한다.
- ② 실 - 손가락 끝을 보호한다.
- ③ 초크 - 실을 자를 때 사용한다.
- ④ 가위 - 옷을 꿰매는 데 사용한다.

3. 그림의 식품들이 속하는 식품군은?




- ① 곡류                                      ② 채소류
- ③ 우유·유제품류                      ④ 고기·생선·달걀·콩류

4. 다음 중 생활 안전사고의 예방 방법으로 적절한 것은?

- ① 계단 난간을 타고 내려온다.
- ② 깨진 유리 조각을 맨발로 밟는다.
- ③ 가스를 사용한 후에는 밸브를 잠근다.
- ④ 창틀 위로 올라서서 몸을 밖으로 내민다.

5. 그림과 같은 반려견을 돌보는 방법으로 적절하지 않은 것은?



- ① 먹이 주기
- ② 산책 시키기
- ③ 질병 관리하기
- ④ 부화기 설치하기

6. 그림에 해당하는 청소 방법은?

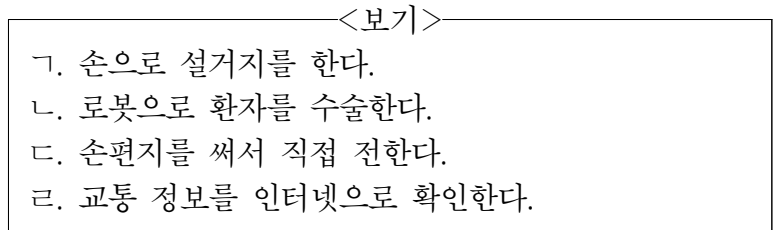


- ① 물건 정리하기                      ② 바닥 쓸고 닦기
- ③ 창문 열어 환기하기                ④ 쓰레기 분리배출하기

7. 다음 중 바느질 도구를 이용하여 만들 수 없는 생활소품은?

- ① 인형      ② 목도리      ③ 유리컵      ④ 주머니

8. <보기>에서 소프트웨어가 적용된 사례를 고른 것은?



- ① ㄱ, ㄴ                                      ② ㄱ, ㄷ
- ③ ㄴ, ㄹ                                      ④ ㄷ, ㄹ

9. 다음 중 직업의 사례로 가장 적절한 것은?

- ① 할아버지는 매일 산책을 가신다.
- ② 나는 도서관에서 동화책을 읽는다.
- ③ 할머니는 무료로 한자를 가르치신다.
- ④ 아버지는 꽃집에서 손님에게 꽃을 파신다.

10. 그림에 해당하는 수송 수단의 종류로 적절한 것은?



- ① 우주 수송 수단                      ② 육상 수송 수단
- ③ 항공 수송 수단                      ④ 해상 수송 수단

11. 다음 설명에 해당하는 것은?

- 문제를 효율적으로 해결하기 위한 것이다.
- 문제를 작은 단위로 나누어 단계별로 처리하는 사고 과정이다.

- ① 정보 윤리
- ② 지식 재산
- ③ 사이버 중독
- ④ 절차적 사고

12. 그림의 옷이 가진 표현의 기능은?



- ① 직업이나 신분을 나타낸다.
- ② 피부를 청결하게 유지한다.
- ③ 위험으로부터 몸을 보호한다.
- ④ 추위를 막아 체온을 유지한다.

13. 다음 중 개인 정보 보호 방법으로 가장 적절한 것은?

- ① 한번 정한 비밀번호는 바꾸지 않는다.
- ② 소프트웨어를 불법 복제하여 공유한다.
- ③ 검증되지 않은 사이트에 개인 정보를 입력한다.
- ④ 여러 사람이 이용하는 컴퓨터를 쓴 후에는 로그아웃한다.

14. 다음 용돈 기입장의 ㉠에 들어갈 내용으로 알맞은 것은?

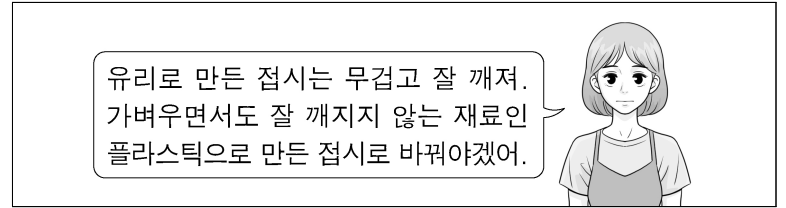
| 날짜    | 내용       | 수입     | 지출     | 남은 돈   |
|-------|----------|--------|--------|--------|
| 7월 1일 | ㉠        | 5,000원 |        | 5,000원 |
| 7월 4일 | 아이스크림 구입 |        | 1,500원 | 3,500원 |
| 7월 6일 | 장난감 구입   |        | 1,000원 | 2,500원 |

- ① 용돈을 받음
- ② 지우개 구입
- ③ 봉사 단체에 기부
- ④ 친구 생일 선물 구입

15. 다음 중 친환경 농업의 실천 방법으로 적절하지 않은 것은?

- ① 발효 사료를 가축의 먹이로 이용한다.
- ② 가축에게 항생제를 과도하게 사용한다.
- ③ 가축의 분뇨를 퇴비로 만들어 사용한다.
- ④ 우렁이나 오리를 이용하여 잡초나 해충을 제거한다.

16. 그림에서 설명하는 발명 기법으로 가장 적절한 것은?



- ① 나누기
- ② 더하기
- ③ 재료 바꾸기
- ④ 자연물 본뜨기

17. 다음 중 손뼉을 치거나 큰 소리를 내면 반응하는 로봇을 만드는 데 필요한 센서는?

- ① 빛 센서
- ② 소리 센서
- ③ 온도 센서
- ④ 기울기 센서

18. 안전하고 위생적인 식품 선택 방법으로 가장 적절한 것은?

- ① 금이 간 달걀을 고른다.
- ② 곰팡이가 있는 식빵을 구입한다.
- ③ 따뜻한 곳에 보관된 냉동식품을 구입한다.
- ④ 눈알이 선명하고 살이 단단한 생고등어를 고른다.

19. 자전거를 안전하게 관리하는 방법이 바르게 연결된 것은?

- ① 타이어 - 적절한 공기압을 유지한다.
- ② 체인 - 불빛이 앞을 향하도록 조절한다.
- ③ 브레이크 - 경적 소리가 크게 나는지 확인한다.
- ④ 전조등 - 패드와 바퀴 사이에 이물질이 없는지 확인한다.

20. 그림에 해당하는 식물의 분류로 가장 적절한 것은?



- ① 공예 작물
- ② 식용 작물
- ③ 원예 작물
- ④ 특용 작물