

제 6 교시

한국사

1. 다음 유물이 처음으로 제작된 시대는?

비파형 동검과 함께 만주와 한반도 북부에 집중적으로 분포한다. 이를 통해 고조선의 <탁자식 고인돌> 문화 범위를 추정할 수 있다.

- ① 구석기 시대 ② 신석기 시대
- ③ 청동기 시대 ④ 철기 시대

2. 다음에서 설명하는 신라의 인물은?

- 아미타 신앙을 전파하여 불교 대중화에 기여함.
- 여러 종파의 대립을 없애고자 화쟁 사상을 주장함.

- ① 원효 ② 일연 ③ 김부식 ④ 정약용

3. 다음에서 설명하는 정치 세력은?

- 고려 말 권문세족의 부정부패를 비판함.
- 성리학을 바탕으로 사회 모순을 개혁하고자 함.
- 대표적 인물로는 조준, 정도전, 정몽주 등이 있음.

- ① 6두품 ② 보부상 ③ 독립 협회 ④ 신진 사대부

4. 다음에서 ㉠에 해당하는 내용으로 적절한 것은?

<임오군란>

- 배경 : ㉠
- 전개 : 군란 발생 → 흥선 대원군 재집권 → 청군 개입
- 영향 : 청의 내정 간섭, 제물포 조약 체결

- ① 평양 천도 ② 신사 참배 강요
- ③ 금의 군신 관계 요구 ④ 구식 군인에 대한 차별

5. 다음에서 설명하는 사건은?

일본의 도요토미 히데요시가 조선을 침략하자, 각지에서 의병이 일어나 일본군에게 타격을 주었다. 한편, 이순신이 이끄는 수군은 해전에서 여러 차례 일본군에 승리하였다.

- ① 임진왜란 ② 살수 대첩 ③ 만적의 난 ④ 봉오동 전투

6. 다음에서 ㉠에 해당하는 조선의 제도는?

근래 방납의 폐단이 심하다고 들었소. 이제부터 ㉠을/를 실시하여 토지 결수에 따라 쌀로 공납을 거두도록 하시오.

- ① 골품제 ② 대동법 ③ 단발령 ④ 진대법

7. 다음에서 ㉠에 해당하는 것은?

신미양요 이후 흥선 대원군은 전국 각지에 ㉠을/를 세워 서양과의 통상을 거부한다는 의지를 널리 알렸다.

- ① 규장각 ② 독립문 ③ 척화비 ④ 임신서기석

8. 다음에서 설명하는 조약은?

- 조선이 외국과 맺은 최초의 근대적 조약임.
- 조약 체결의 결과로 부산 외 2개 항구를 개항함.
- 해안 측량권과 영사 재판권을 인정한 불평등 조약임.

- ① 간도 협약 ② 전주 화약 ③ 헛진 조약 ④ 강화도 조약

9. 다음에서 ㉠에 해당하는 문화유산은?

<역사 유물 카드>

- 명 칭 : ㉠
- 소재지 : 경남 함천 해인사
- 내 용 : 몽골의 침입을 부처의 힘으로 물리치고자 제작하였으며, 고려의 뛰어난 목판 인쇄술을 보여줌.

- ① 석굴암 ② 경국대전
- ③ 무령왕릉 ④ 팔만대장경판

10. 다음에서 ㉠에 해당하는 통치 기구는?

을사늑약의 결과는 무엇일까요? ㉠ 이/가 설치됐어요. 대한 제국의 외교권을 빼앗겼어요.

- ① 삼별초 ② 집현전 ③ 통감부 ④ 화랑도

11. 다음에서 설명하는 지역은?

- 안용복이 일본에 건너가 조선의 영토임을 확인함.
- 일본이 「태정관 지령」으로 조선의 영토로 인정함.
- 대한 제국은 「칙령 제41호」를 통해 울도군의 관할로 둠.

- ① 진도 ② 독도 ③ 벽란도 ④ 청해진

12. 다음에서 설명하는 시설은?

- 우리나라 최초의 근대식 병원임.
- 1885년에 선교사 알렌의 제안으로 설립함.
- 제중원을 거쳐 세브란스 병원으로 개칭함.

- ① 서원 ② 향교 ③ 광혜원 ④ 성균관

13. 다음과 같이 주장한 일제 강점기의 사회 운동은?

신분제가 폐지되었지만 백정에 대한 편견이 여전합니다. 백정을 차별하는 것에 항의하고 평등한 대우를 요구합니다.

- ① 병인박해 ② 형평 운동
- ③ 거문도 사건 ④ 서경 천도 운동

14. 다음에서 설명하는 1910년대 일제의 식민 지배 방식은?

- 헌병 경찰로 일상생활을 감시함.
- 「조선 태형령」으로 한국인을 탄압함.
- 학교 교원에게도 제복을 입히고 칼을 차게 함.

- ① 선대제 ② 기인 제도 ③ 무단 통치 ④ 나·제 동맹

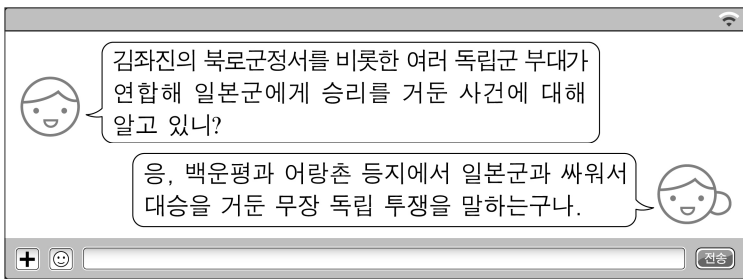
15. 다음에서 ㉠에 해당하는 사건은?

〈 ㉠ 다큐멘터리 기획안 〉

- 주요 장면
- 장면1. 독립 선언서를 준비하는 33인의 민족 대표
- 장면2. 아우내 장터에서 만세 운동을 벌이는 유관순

- ① 3·1 운동 ② 무신 정변
③ 이자겸의 난 ④ 임술 농민 봉기

16. 다음 대화에 해당하는 무장 투쟁은?



- ① 명량 대첩 ② 청산리 대첩
③ 흥경래의 난 ④ 6·10 만세 운동

17. 다음에서 ㉠에 해당하는 내용으로 적절한 것은?

〈 전시 동원 체제와 인력 수탈 〉

- 일제가 1938년에 「국가 총동원법」을 공포함.
- 지원병제와 징병제로 청년을 침략 전쟁에 투입함.
- 근로 정신대와 ㉠ 등으로 여성을 강제 동원함.

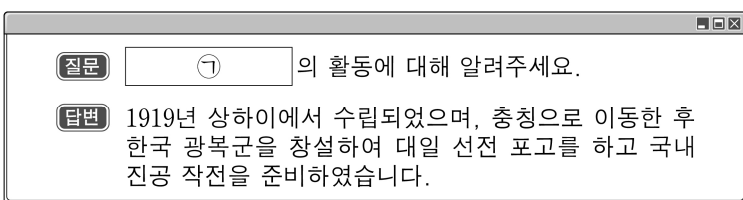
- ① 정미의병 ② 금융 실명제
③ 서울 올림픽 ④ 일본군 '위안부'

18. 다음 설명에 해당하는 것은?

- 1948년에 김구와 김규식 등이 추진함.
- 김구 일행이 38도선을 넘어 평양으로 감.
- 남북의 지도자들이 통일 정부 수립을 결의함.

- ① 남북 협상 ② 아관 파견
③ 우금치 전투 ④ 쌍성총관부 공격

19. 다음에서 ㉠에 해당하는 것은?



- ① 9산선문 ② 급진 개화파
③ 대한민국 임시 정부 ④ 동양척식주식회사

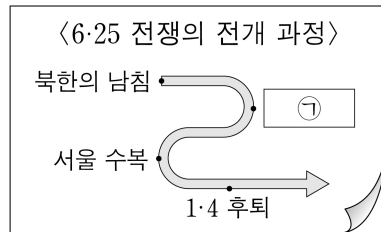
20. 다음에서 ㉠에 해당하는 내용으로 적절한 것은?

〈 반민족 행위 특별 조사 위원회 〉

- 설치 시기: 1948년 이승만 정부 시기
- 설치 근거: 반민족 행위 처벌법
- 설치 목적: ㉠

- ① 과거제 실시 ② 친일파 청산
③ 황무지 개간 ④ 방곡령 시행

21. 다음에서 ㉠에 해당하는 사건으로 적절한 것은?



- ① 녹읍 폐지 ② 후삼국 통일
③ 자유시 참변 ④ 인천 상륙 작전

22. 다음에서 설명하는 사건은?

- 배경: 3·15 부정선거(1960)
- 과정: 전국에서 시위 발생, 대학교수단 시국 선언
- 결과: 이승만 대통령 하야

- ① 4·19 혁명 ② 제주 4·3 사건
③ 12·12 사태 ④ 5·18 민주화 운동

23. 다음에서 설명하는 정부는?

- 경제개발 5개년 계획을 추진함.
- 근면·자조·협동 정신을 강조한 새마을 운동을 시작함.
- 전태일 사건, YH 무역 사건 등의 노동 문제에 직면함.

- ① 장면 정부 ② 박정희 정부
③ 김영삼 정부 ④ 김대중 정부

24. 다음에서 ㉠에 해당하는 내용으로 적절한 것은?

〈 수행 평가 보고서 〉

- 주제: 6월 민주 항쟁
- 조사 내용
- 인물 탐구: 박종철, 이한열
- 항쟁 결과: ㉠

- ① 집강소 설치 ② 정전 협정 체결
③ 노비안검법 실시 ④ 대통령 직선제 개헌

25. 다음에서 ㉠에 해당하는 것은?



- ① 외환 위기 ② 베트남 파병
③ 원산 총파업 ④ 서울 진공 작전