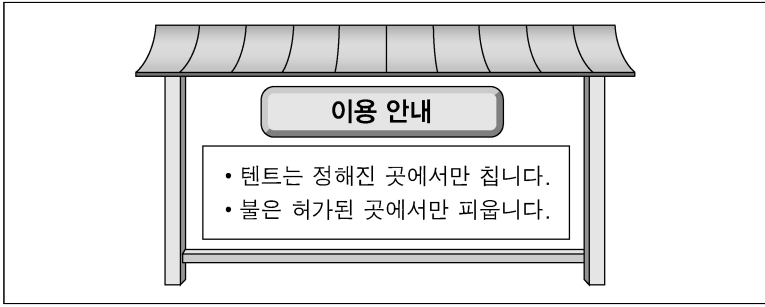





11. 다음과 같은 안내판이 설치된 장소로 가장 적절한 곳은?



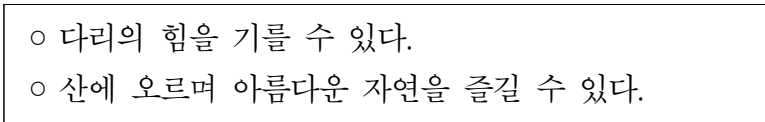
- ① 박물관                      ② 영화관
- ③ 캠핑장                        ④ 실내 수영장

12. 그림과 같은 게임에 대한 설명으로 옳은 것은?



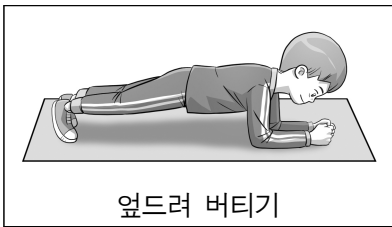
- ① 공을 튀기면서 이동하는 게임이다.
- ② 공을 굴려 핀을 쓰러뜨리는 게임이다.
- ③ 공을 차서 골을 넣으면 점수를 얻는 게임이다.
- ④ 공을 주먹으로 치고 누를 돌아 점수를 얻는 게임이다.

13. 다음 설명에 해당하는 여가 활동은?



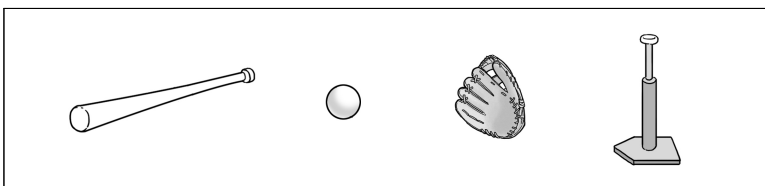
- ① 등산                            ② 투호
- ③ 사방치기                      ④ 스케이팅

14. 그림과 같은 활동으로 기를 수 있는 건강 체력 요소로 가장 적절한 것은?



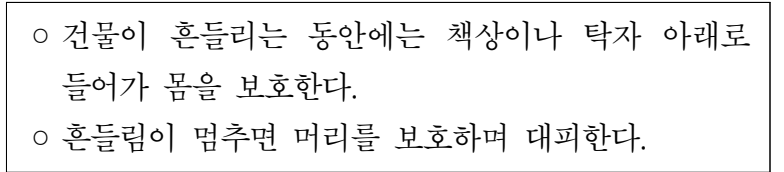
- ① 순발력
- ② 유연성
- ③ 협동성
- ④ 근력 및 근지구력

15. 그림과 같은 도구를 사용하는 게임은?



- ① 농구형 게임                      ② 배구형 게임
- ③ 티볼형 게임                      ④ 하키형 게임

16. 다음과 같은 행동이 필요한 재난 상황은?



- ① 산불                            ② 지진                            ③ 홍수                            ④ 황사

17. 다음 설명에 해당하는 것은?

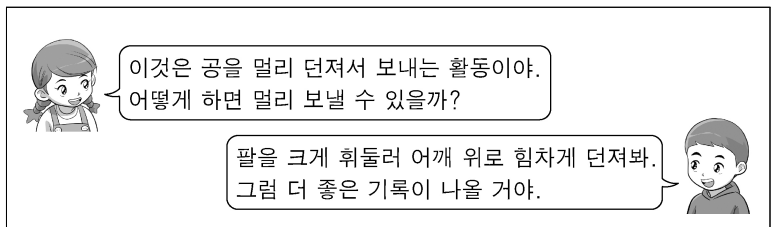


- ① 높이뛰기                            ② 손짚고 옆돌기
- ③ 앞 구르기                            ④ 제자리멀리뛰기

18. 다음 중 우리나라의 민속 무용이 아닌 것은?



19. 다음 대화에서 설명하는 신체 활동은?



- ① 공 받기                            ② 공 던지기                            ③ 공 빼앗기                            ④ 공 피하기

20. 다음 중 스케이트를 안전하게 타는 방법으로 알맞지 않은 것은?

- ① 정해진 방향으로 스케이트를 탄다.
- ② 자신의 발에 맞는 스케이트를 착용한다.
- ③ 스케이트를 타기 전에 준비 운동을 한다.
- ④ 헬멧, 장갑 등의 안전 장비를 착용하지 않고 빠르게 탄다.