


제 ① 교시 사회

1. 지도에서 학교를 기준으로 북쪽에 위치한 것은?



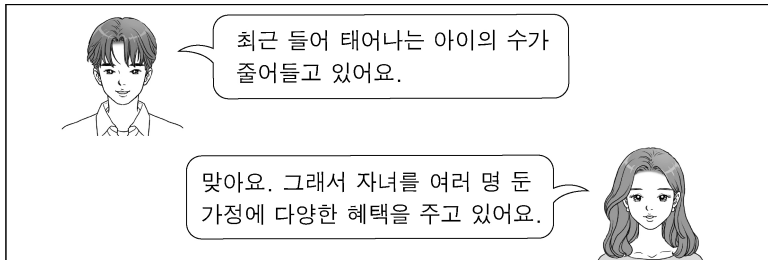
- ① 공원 ② 시장 ③ 시청 ④ 우체국

2. 다음 중 ㉠에 들어갈 시설로 알맞지 않은 것은?

<주제: 공공 기관>
 ○ 의미: 주민 전체의 이익과 생활의 편의를 위해 국가가 세우거나 관리하는 곳
 ○ 종류: 시청, 소방서, ㉠ 등

- ① 경찰서 ② 교육청 ③ 백화점 ④ 보건소

3. 다음 대화에서 알 수 있는 사회 현상은?



- ① 세계화 ② 저출산 ③ 정보화 ④ 빈부 격차

4. 다음에서 설명하는 경제 활동은?

○ 벼농사를 짓는 것
 ○ 자동차를 만드는 것
 ○ 미용사가 손님의 머리를 손질해 주는 것

- ① 교류 ② 생산 ③ 소비 ④ 저축

5. 다음에서 설명하는 자연재해는?

○ 오랫동안 비가 오지 않거나 적게 오는 기간이 지속되는 현상이다.
 ○ 물이 부족해 농작물이 피해를 입는다.

- ① 가뭄 ② 폭설 ③ 한파 ④ 황사

6. 다음에서 설명하는 도시는?

○ 우리나라의 수도이다.
 ○ 편리한 교통, 넓은 소비 시장을 바탕으로 다양한 산업이 발달했다.

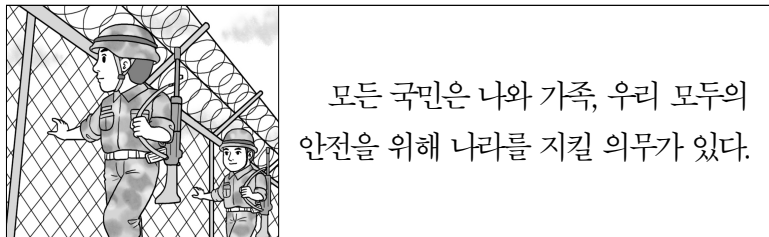
- ① 대구 ② 대전 ③ 부산 ④ 서울

7. 다음 중 ㉠에 들어갈 말로 알맞은 것은?

모든 사람은 태어나면서부터 인간답게 살 권리가 있으며, 어떤 이유로도 인간답게 살 권리를 침해당해서는 안 된다. 이처럼 사람이기 때문에 당연히 누리는 권리를 ㉠(이)라고 한다.

- ① 의무 ② 인권 ③ 청렴 ④ 희소성

8. 다음에서 설명하는 것은?



- ① 국방의 의무 ② 교육의 의무
 ③ 근로의 의무 ④ 납세의 의무

9. 다음에서 설명하는 나라는?

○ 광개토 대왕 때 요동 지역을 차지했다.
 ○ 장수왕 때 평양 지역으로 수도를 옮겼다.

- ① 고구려 ② 백제 ③ 신라 ④ 가야

10. 다음은 어느 나라의 문화유산인가?

○ 상감 청자
 ○ 직지심체요절
 ○ 팔만대장경판

- ① 고조선 ② 발해 ③ 고려 ④ 조선

11. 다음에서 설명하는 인물은?

- 임진왜란 때 활약한 장군이다.
- 옥포 해전, 한산도 대첩, 명량 대첩 등 일본 수군과의 해상 전투에서 크게 승리하였다.

- ① 계백 ② 강감찬 ③ 이순신 ④ 장보고

12. 다음 중 ㉠에 공통적으로 들어갈 알맞은 말은?

- 조선 후기에 한글을 익힌 사람들이 늘어나면서 ㉠이/가 널리 보급되었다.
- 대표적인 ㉠로는 『홍길동전』, 『춘향전』, 『심청전』, 『홍부전』, 『장화홍련전』 등이 있다.

- ① 탈놀이 ② 풍속화 ③ 강강술래 ④ 한글 소설

13. 다음에서 설명하는 인물은?



우리나라를 빼앗는 데 앞장선 이토 히로부미를 하얼빈역에서 저격하였다.

- ① 신돌석 ② 신채호 ③ 안중근 ④ 이회영

14. 다음에서 설명하는 것은?

1980년 5월 광주에서 일어난 민주화 운동이다. 이와 관련된 기록물은 2011년 유네스코 세계 기록 유산으로 등재되었다.

- ① 갑신정변 ② 임진왜란
③ 동학 농민 운동 ④ 5·18 민주화 운동

15. 다음에서 설명하는 선거의 기본 원칙은?



- ① 보통 선거 ② 비밀 선거
③ 직접 선거 ④ 평등 선거

16. 다음에서 설명하는 것은?

제2차 세계 대전에서 연합국이 승리하면서 우리나라는 1945년에 일제로부터 해방되었다.

- ① 8·15 광복 ② 5·10 총선거
③ 6·25 전쟁 ④ 6월 민주 항쟁

17. 다음 중 ㉠, ㉡에 들어갈 말을 올바르게 짝지은 것은?

- ㉠ : 무역을 할 때 우리나라 물건을 다른 나라에 파는 것이다.
- ㉡ : 무역을 할 때 다른 나라 물건을 우리나라로 사 오는 것이다.

- | | | | |
|------|----|------|----|
| ㉠ | ㉡ | ㉠ | ㉡ |
| ① 생산 | 소비 | ② 소비 | 생산 |
| ③ 수입 | 수출 | ④ 수출 | 수입 |

18. 다음에서 설명하는 대륙은?

- 우리나라가 속해 있는 대륙이다.
- 대륙 중에서 가장 크며 세계 육지 면적의 약 30%를 차지한다.

- ① 유럽 ② 아시아
③ 아프리카 ④ 오세아니아

19. 다음에서 설명하는 나라는?

- 우리나라의 동쪽에 위치하고 있다.
- 국토의 대부분이 산지이며 화산이 많고 온천이 발달했다.
- 네 개의 큰 섬과 3,000개가 넘는 작은 섬들로 이루어져 있다.

- ① 일본 ② 칠레 ③ 러시아 ④ 베트남

20. 다음에서 설명하는 것은?



- 1945년에 설립되었다.
- 지구촌의 평화를 유지하고, 전쟁을 방지하기 위한 국제기구이다.

- ① 해비타트 ② 국제 연합(UN)
③ 국제 엠네스티 ④ 세이브 더 칠드런