

제 4 교시 사회

1. 다음에서 설명하는 기본권은?

- 국가로부터 최소한의 인간다운 생활을 보장받을 권리이다.
- 교육권, 환경권 등이 해당한다.

- ① 사회권 ② 자유권 ③ 참정권 ④ 청구권

2. ㉠, ㉡에 들어갈 사회적 상호 작용은?

- (㉠) : 마을 주민 모두가 힘을 합쳐 마을 텃밭을 가꾸고 있다.
- (㉡) : 태권도 대회에서 금메달을 획득하기 위해 상대 방과 겨루고 있다.

- | | | | |
|------|----|------|----|
| ㉠ | ㉡ | ㉠ | ㉡ |
| ① 경쟁 | 갈등 | ② 경쟁 | 협동 |
| ③ 교환 | 협동 | ④ 협동 | 경쟁 |

3. ㉠에 들어갈 민수의 대답으로 가장 적절한 것은?

<밴드왜건 효과의 사례>

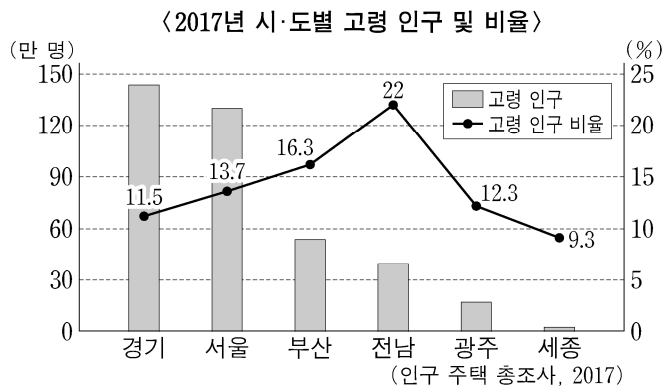
수진 : 어제 최신 스마트폰을 샀어. 너도 살 거니?
민수 : _____ ㉠ _____

- ① 나는 미래의 소비를 위해 저축하겠어.
- ② 나도 유행에 질 수 없지. 당장 사러 가야겠어.
- ③ 나는 너와 달라 보이고 싶기 때문에 사지 않겠어.
- ④ 나는 지금 가지고 있는 스마트폰을 더 사용할 거야.

4. 자문화 중심주의에 대한 설명으로 옳은 것은?

- ① 다양한 문화를 존중하는 태도이다.
- ② 다른 문화의 관점에서 자신의 문화를 비하한다.
- ③ 문화 간에 열등함과 우월함을 평가하지 않는다.
- ④ 자기 문화를 기준으로 다른 문화를 낮게 평가한다.

5. 자료에 대한 분석으로 옳지 않은 것은?



- ① 고령 인구가 가장 많은 곳은 경기이다.
- ② 서울보다 전남의 고령 인구가 더 많다.
- ③ 고령 인구 비율이 가장 낮은 곳은 세종이다.
- ④ 광주보다 부산의 고령 인구 비율이 더 높다.

6. 다음에서 설명하는 것은?

- 주로 교육이나 고용 분야에서 차별받아 온 집단의 구성원에게 우선적으로 기회를 주는 것이다.
- 대입 농어촌 학생 특별 전형, 여성 고용 할당제 등이 해당한다.

- ① 섯다운제 ② 부당 노동 행위
③ 환경 영향 평가제 ④ 적극적 우대 조치

7. 다음 대화의 ㉠에 해당하는 법은?

임금, 근로 시간, 휴일, 유급 휴가 등 근로 조건에 대해 알고 싶는데 무엇을 찾아보면 될까요?

(㉠)을 찾아보렴. 근로자의 기본적인 생활을 보장하기 위하여 헌법에 근거한 근로 조건의 최저 기준이 나와 있단다.



- ① 근로 기준법
- ② 노인 복지법
- ③ 다문화 가족 지원법
- ④ 독점 규제 및 공정 거래에 관한 법

8. 다음에서 설명하는 것은?

- 다른 사람과 구별되는 자신만의 독특한 모습이다.
- '나는 누구인가?'라는 물음에 대답하는 과정에서 발견된다.

- ① 규범 ② 문화 ③ 자아 ④ 유비쿼터스

9. 사실 판단에 해당하는 것은?

- ① 무궁화는 아름다운 꽃이다.
- ② 우리나라 애국가는 4절로 되어 있다.
- ③ 현행 대학 입시 제도를 개선해야 한다.
- ④ 어려운 친구를 잘 도와주는 학생은 착하다.

10. 다음에서 설명하는 것은?

- 재화나 서비스의 차입을 전제로 부담한 금전상의 의무이며, 빚 또는 채무라고 한다.
- 자신의 상환 능력을 고려하지 않고 과소비를 할 때 발생할 수 있다.

- ① 현금 ② 소득 ③ 예금 ④ 부채

11. 환율에 대한 설명으로 옳지 않은 것은?

- ① 서로 다른 두 나라 화폐 간의 교환 비율을 의미한다.
- ② 환율 변동은 자국 화폐의 상대적 가치 변화를 의미한다.
- ③ 우리나라는 국가가 환율을 결정하여 환율이 변동하지 않는다.
- ④ 1달러당 1,000원이던 환율이 1달러당 1,200원이 되면 '환율이 상승했다'고 표현한다.

12. 다음에 해당하는 것은?

- 개인이나 집단이 사업 아이디어를 가지고 새로운 기업을 설립하는 것이다.
- 혁신적 사고를 바탕으로 하는 기업가 정신이 중요하다.

- ① 소비 ② 여가 ③ 창업 ④ 취업

13. 다음에서 설명하는 것은?

시민이 주권자로서 사회에 참여하는 일반적인 방법으로, 국민의 대표를 선출하는 기능이 있다.

- ① 기부 ② 선거 ③ 청원 ④ 사회봉사

14. 인구 분포에 영향을 미치는 자연적 요인으로 옳은 것은?

- ① 온화한 기후 ② 발달한 산업
③ 풍부한 일자리 ④ 교육 문화 시설

15. 다음에 해당하는 종교는?

○ 히잡과 부르카 등의 복식 문화가 있다.
○ 카슈미르 지역에서 힌두교와 갈등이 있다.
○ 무함마드가 창시자이며 쿠란이라는 경전을 사용한다.

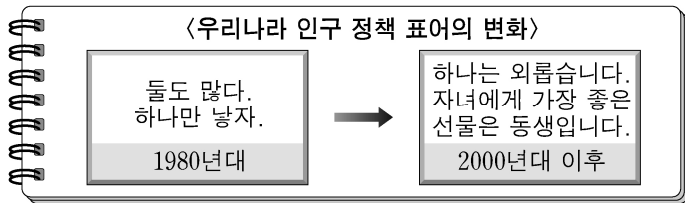
- ① 불교 ② 유대교 ③ 이슬람교 ④ 크리스트교

16. ㉠, ㉡에 해당하는 것은?

○ (㉠) 현상은 화장장, 하수 처리장 등의 혐오 시설이 자기 사는 지역에 설치되는 것을 반대하는 것이다.
○ (㉡) 현상은 지하철역, 행정 기관과 같이 지역 발전에 도움이 되는 시설을 자기 지역에 유치하려는 것이다.

- | | |
|-------------|-----------|
| ㉠ | ㉡ |
| ① 교외화 | 도시화 |
| ② 도시화 | 교외화 |
| ③ 핼피(PIMFY) | 님비(NIMBY) |
| ④ 님비(NIMBY) | 핼피(PIMFY) |

17. 다음과 같은 표어 변화의 원인으로 가장 적절한 것은?



- ① 저출산 ② 국제결혼 감소
③ 농어촌 인구 집중 ④ 여성의 사회 진출 감소

18. ㉠, ㉡에 들어갈 지역 개발 방식은?

○ 중앙 정부 중심의 계획과 집행: (㉠) 개발
○ 지방 자치 단체와 지역 주민이 주도: (㉡) 개발

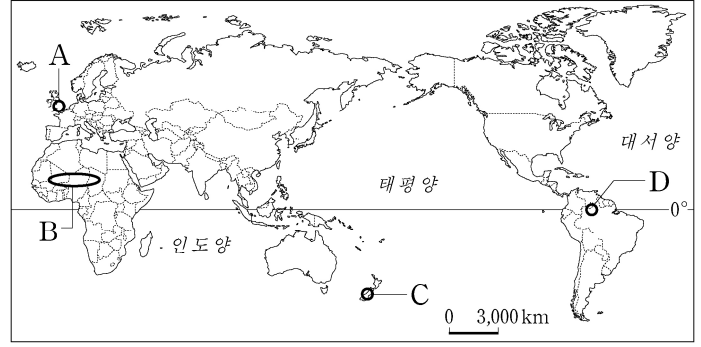
- | | | | |
|-------|-----|-----|-----|
| ㉠ | ㉡ | ㉠ | ㉡ |
| ① 상향식 | 균형 | 상향식 | 하향식 |
| ③ 거점 | 하향식 | 하향식 | 상향식 |

19. 3대 곡물 자원인 옥수수에 대한 설명으로 옳지 않은 것은?

- ① 식량과 사료로 소비된다.
② 국가 간에 거래되지 않는다.
③ 바이오 에너지의 원료로 이용된다.
④ 라틴 아메리카에서 유럽으로 전파되었다.

20. 다음에서 설명하는 지역을 지도에서 고르면?

○ 사하라 사막 남부의 사헬 지대이다.
○ 오랜 가뭄과 인구·가축의 증가로 사막화가 진행되고 있다.



- ① A ② B ③ C ④ D

21. 교통의 발달이 가져온 변화로 옳지 않은 것은?

- ① 생활권이 축소되었다.
② 지역 간 교류가 활성화되었다.
③ 지역 간 상호 의존성이 높아졌다.
④ 이동의 공간적 범위가 확대되었다.

22. 두 지역에서 발생하는 공통적인 갈등으로 가장 적절한 것은?

○ 북극해 ○ 카스피해

- ① 자원을 둘러싼 갈등
② 남북문제에 의한 갈등
③ 크리스트교와 불교의 종교 갈등
④ 네덜란드어와 프랑스어의 언어 갈등

23. 자연환경과 인간의 공존을 위한 노력으로 옳은 것을 <보기>에서 고른 것은?

<보기>

ㄱ. 야생 동물의 생태 통로를 만들어 준다.
ㄴ. 환경을 보호하면서도 경제 성장을 도모한다.
ㄷ. 물질적 풍요를 얻기 위한 도구로서 자연을 대한다.
ㄹ. 자연 훼손을 고려하지 않고 자원과 동력을 최대한 사용한다.

- ① ㄱ, ㄴ ② ㄱ, ㄷ ③ ㄴ, ㄹ ④ ㄷ, ㄹ

24. 프톨레마이오스의 지도(또는 톨레미의 지도)에 대한 설명으로 옳은 것은?

- ① 중국에서 제작된 지도이다.
② 세계 인구수를 알 수 있다.
③ 아메리카 대륙이 누락되었다.
④ 위성 사진을 이용하여 제작되었다.

25. 다음에서 설명하는 것은?

○ 정부의 간섭 없이 시민 개개인이나 민간단체가 중심이 되어 만들어진 조직이다.
○ 환경과 평화를 위하여 활동하는 그린피스 등이 있다.

- ① 소호(SOHO) ② 국제 연합(UN)
③ 비정부 기구(NGO) ④ 세계 무역 기구(WTO)