

제 ③ 교시 음악

1. 다음 ㉠에 들어갈 알맞은 쉼표는?



이름도아름다워 금강이라네 금 강 - 이 라 네

- ① 쉼표 ② 선 ③ 음표 ④ 줄표

2. 다음 중 '점점 세계' 연주하라는 뜻의 악상 기호는?

- ① # ② b
③ ④

3. 다음 설명에 해당하는 것은?



정월 대보름이나 한가위에 여러 사람이 원을 만들어 춤추고 노래하는 놀이이다.

- ① 난타 ② 왈츠
③ 탱고 ④ 강강술래

4. 다음 설명에 해당하는 악기는?

- 네 개의 줄로 된 현악기이다.
- 활로 줄을 문질러 소리를 낸다.
- 관현악에서 높은 음역을 담당한다.

- ① 징 ② 바이올린
③ 캐스터네츠 ④ 트라이앵글

5. 다음에서 설명하는 작품은?

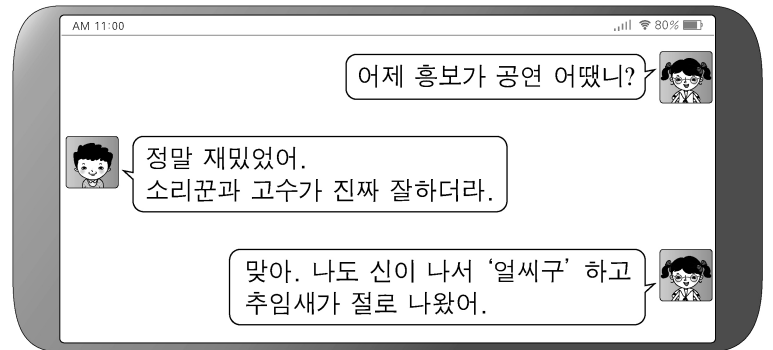
- 이탈리아 작곡가 비발디의 작품이다.
- 봄, 여름, 가을, 겨울 사계절을 음악으로 표현하였다.

- ① 사계 ② 놀람 교향곡
③ 운명 교향곡 ④ 피터와 늑대

6. 다음 중 가장 낮은 음은?



7. 다음 대화에서 설명하고 있는 음악은?



- ① 대취타 ② 판소리 ③ 협주곡 ④ 미뉴에트

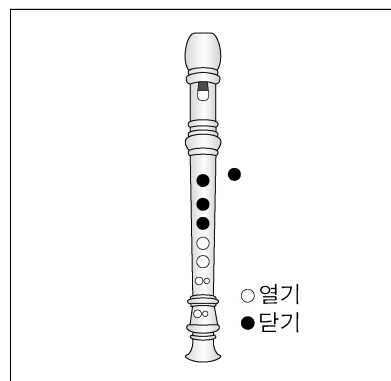
8. 다음 일기 내용에 해당하는 악기는?

2021년 ○월 ○일

오늘 학교에서 사물놀이를 배웠다. 왼손에는 궁채, 오른손에는 열채를 들고 '덩 쿵 쿵 덕쿵'의 자진모리장단을 연주했다.

- ① 단소 ② 대금 ③ 장구 ④ 가야금

9. 그림과 같이 소프라노 리코더를 연주할 때 해당하는 음은?



- ① 솔
② 라
③ 시
④ 도

10. 다음에서 설명하는 음악적 표현은?

	굵게 떠는 소리
	잘게 떠는 소리

- ① 박자 ② 음계 ③ 조성 ④ 시김새

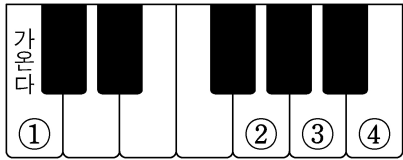
[11~12] 다음은 「봄바람」의 일부분이다. 물음에 답하시오.



11. 위 곡의 셈여림으로 알맞은 것은?

- ① ○○○○ ② ○○○○
 ③ ○○○○○ ④ ○○○○○○

12. 위 곡의 ㉠에 해당하는 건반의 위치는?



13. 다음 중 입으로 불어서 연주하는 악기는?

- ① 팽과리
 ② 북
 ③ 태평소
 ④ 해금

14. 다음 ㉠에 해당하는 가락선은?



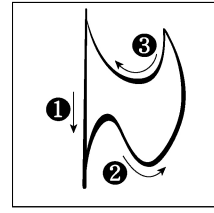
- ① ② ③ ④ ④

15. 다음 곡의 형식으로 알맞은 것은?



- ① AB 형식 ② aba 형식
 ③ 시조 형식 ④ 메기고 받는 형식

16. 그림의 박자 짓기에 알맞은 것은?




- ① $\frac{2}{2}$ ② $\frac{2}{4}$ ③ $\frac{3}{4}$ ④ $\frac{4}{4}$

17. 다음 노래의 공통점은?



- ① 교향곡 ② 일노래
 ③ 기악 합주 ④ 리듬 합주


18. 다음 설명에 해당하는 것은?



- 조선 왕실의 위패를 모신 종묘에서 연주하는 전통 음악이다.
- 유네스코 인류 무형 문화유산으로 지정되었다.

- ① 응원가 ② 창작 동요
 ③ 만화 주제곡 ④ 종묘 제례악

19. 다음 설명에 해당하는 노래 부르기 형태는?



- 소프라노, 알토, 테너 등으로 성부를 나눈다.
- 소리의 어울림을 생각하며 노래 부른다.

- ① 독주 ② 독창 ③ 산조 ④ 합창

20. 다음 중 우리나라 민요가 아닌 것은?

- ① 아리랑 ② 널리리야
 ③ 도라지타령 ④ 에텔바이스