

1. 다음과 길이가 같은 음표는?



① ㉠ ② ㉡ ③ ㉢ ④ ㉣

2. 다음 중 가장 높은 음은?

① ② ③ ④

[3~4] 다음은 「우주 자전거」의 일부분이다. 물음에 답하시오.

오 - 두막에 서 별 - 나라까 지

3. ㉠을 표현하는 방법은?

- ① 여리게 ② 점점 여리게
- ③ 세게 ④ 점점 세게

4. 위 곡의 박자짓기로 알맞은 것은?

① ②

③ ④

5. 다음 중 시김새에 해당하는 것은?

고사리대사리 꺾 자 나 무대사리 꺾 자

① ㉠ ② ㉡ ③ ㉢ ④ ㉣

6. 우리나라 전래동요로 알맞은 것은?

- ① 스와니강 ② 에텔바이스
- ③ 체키 모레나 ④ 남생아 놀아라

7. 다음 소프라노 리코더가 연주하는 음은?

○ 열기 ● 닫기

① ②

③ ④

8. ㉠에 들어갈 알맞은 리듬꼴은?

① ②

③ ④

9. 다음에서 설명하는 노래 방식은?

- 성부를 나누어 노래함.
- 화음의 어울림이 중요함.

- ① 독창 ② 독주 ③ 합창 ④ 제창

10. 사물놀이 악기에 해당하는 것은?

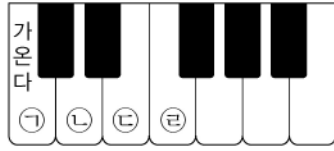
① ②

③ ④

북 해금

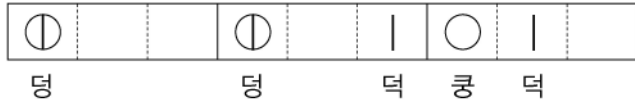
박 가야금

11. 다음 악보의 음을 연주할 때 건반의 올바른 위치는?



- ① ㉠ ② ㉡ ③ ㉢ ④ ㉣

12. 다음 악보를 연주하기에 가장 알맞은 악기는?



- ① 장구 ② 대금 ③ 단소 ④ 소금

13. 다음에서 설명하는 것은?



- 탈을 쓰고 음악에 맞추어 춤추고 노래하며 대사를 주고받는 가면극
- 탈에는 각시탈, 초랭이탈, 부네탈, 양반탈 등이 있음.

- ① 시조 ② 민요 ③ 탈춤 ④ 일노래

14. ㉠에 어울리는 화음은?

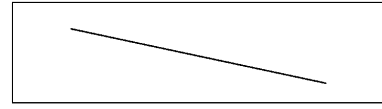


- ① (도미솔) ② (미솔시) ③ (파라도) ④ (솔시레)

15. 두드려서 연주하는 악기가 아닌 것은?

- ① 큰북
- ② 작은북
- ③ 팀파니
- ④ 트럼펫

16. 다음 가락선을 표현한 악보는?



- ① ② ③ ④

17. 악곡의 반복을 지시하는 기호는?

- ① ② ③ ④

18. 그림과 같은 상황에 어울리는 음악은?



- 올림픽에서 금메달을 딴 우리나라 선수가 태극기를 향해 경례를 할 때 쓰임.

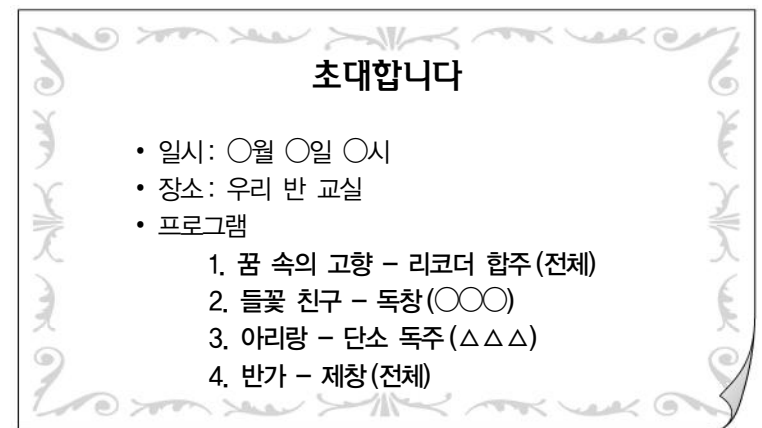
- ① 애국가 ② 결혼 행진곡
③ 졸업식 노래 ④ 종료 제례악

19. 그림에 해당하는 극음악의 종류는?



- ① 판소리 ② 오페라 ③ 뮤지컬 ④ 가부키

20. 그림에 해당하는 것으로 가장 알맞은 것은?



- ① 결혼식 초대장 ② 운동회 초대장
③ 도서관 캠프 초대장 ④ 학급 음악회 초대장