


제 ③ 교시

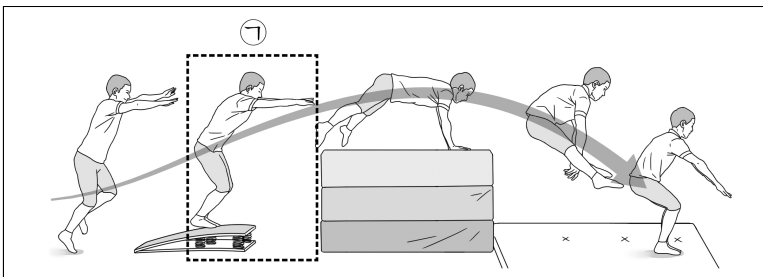
체 육

1. 그림에 해당하는 우리나라 전통 놀이는?



- ① 공기놀이
- ② 구슬치기
- ③ 사방치기
- ④ 제기차기

2. 그림에서 ㉠에 해당하는 뽀틀 운동의 동작은?



- ① 도움닫기
- ② 발 구르기
- ③ 손 짚기
- ④ 착지


3. 다음 설명에 해당하는 농구형 게임의 기능은?



공을 튀기며 원하는 곳으로 이동한다.

- ① 골 넣기
- ② 공 물기
- ③ 공 빼앗기
- ④ 공 이어 주기

4. 그림과 같은 표현 활동에 사용한 도구로 알맞게 연결된 것은?



- | | | |
|---|----|----|
| | ㉠ | ㉡ |
| ① | 줄 | 공 |
| ② | 공 | 리본 |
| ③ | 줄 | 후프 |
| ④ | 후프 | 리본 |

5. 그림의 방법으로 측정할 수 있는 체력 요소로 가장 적절한 것은?



앞아 뒷몸 앞으로 굽히기

- ① 유연성
- ② 협응성
- ③ 심폐 지구력
- ④ 근력 및 근지구력


6. 다음 설명에 해당하는 높이뛰기 방법은?



허리를 젖혀 뒤로 눕듯이 가로대를 뛰어넘는다.

- ① 가위 뛰기
- ② 배면 뛰기
- ③ 옆드려 뛰기
- ④ 두 발 모아 뛰기


7. 다음 설명에서 ㉠에 해당하는 것은?



(㉠) 위에 공을 올려놓고 친다.


- ① 글러브
- ② 방망이
- ③ 배팅 티
- ④ 콩 주머니

8. 그림과 같은 게임에 대한 설명으로 옳은 것은?



- ① 라켓과 셔틀콕을 사용하는 게임이다.
- ② 채를 사용해 공을 물고 가는 게임이다.
- ③ 골대에 공을 넣으면 점수를 얻는 게임이다.
- ④ 머리카나 발을 이용하여 공을 주고받는 게임이다.

9. 다음 대화에서 설명하는 게임은?



- ① 골프형 게임 ② 다트형 게임
- ③ 볼링형 게임 ④ 하키행 게임

10. 다음 기술이 사용되는 운동 종목은?



- ① 씨름
- ② 야구
- ③ 축구
- ④ 태권도


11. 다음 중 학교 운동 시설을 안전하게 사용하는 행동으로 가장 적절한 것은?

- ① 축구 골대에 매달린다.
- ② 정글짐 위에서 장난을 친다.
- ③ 농구 골대에 올라가 그물을 잡아당긴다.
- ④ 운동 시설이 안전한지 확인하고 이용한다.

12. 다음 중 건강한 성장과 발달에 도움이 되는 것은?

- ① 음주 ② 흡연
- ③ 약물 오남용 ④ 규칙적인 운동

13. 그림에 해당하는 운동 종목은?




- ① 스키 ② 배드민턴
- ③ 포환던지기 ④ 왕복 오래달리기

14. 다음 설명에 해당하는 게임은?

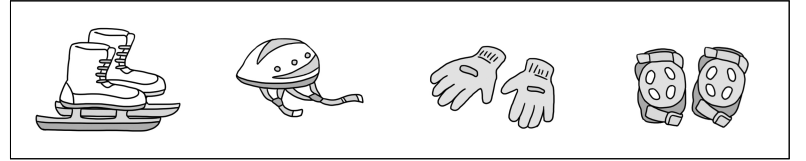
○ 타자는 발, 주먹, 배트 등으로 공을 쳐서 공격한다.
○ 주자가 모든 누를 돌아 홈으로 들어오면 점수를 얻는다.

- ① 농구형 게임 ② 배구형 게임
- ③ 야구형 게임 ④ 축구형 게임

15. 다음 중 골프형 게임의 동작에 해당하는 것은?



16. 그림과 같은 장비를 사용하는 여가 활동은?




- ① 수영 ② 달리기
- ③ 스케이트 ④ 플라잉 디스크

17. 다음 중 평형성을 기르기 위한 동작이 아닌 것은?


- ① 한 발로 서기 ② 윗몸 말아 올리기
- ③ 평균대에서 걷기 ④ 짐볼에서 균형 잡기

18. 다음 설명에 해당하는 민속 무용은?



- ① 왈츠
- ② 탈춤
- ③ 강강술래
- ④ 구스타프 스킨

19. 그림의 배구형 게임에서 점수를 얻는 경우는?



- ① 골대 안에 공을 넣는다.
- ② 다트를 던져 표적을 맞힌다.
- ③ 도구로 공을 쳐서 구멍에 넣는다.
- ④ 네트 너머의 상대 구역에 공을 떨어뜨린다.

20. 그림과 같은 캠핑 활동에서 사용하는 장비 중 ㉠에 해당하는 것은?



- ① 물통
- ② 배낭
- ③ 텐트
- ④ 손전등