

제 4 교시 사회

1. 다음에서 ㉠에 들어갈 자연 재해는?

○○ 신문 2021년 ○월 ○○일

㉠ (으)로 인한 피해 속출

△△지역에서는 이번 ㉠ (으)로 인하여 피해가 속출하였다. 비닐하우스가 하중을 견디지 못해 무너졌고, 도로가 미끄러워 교통이 마비되었다. …….

- ① 가뭄 ② 폭설 ③ 폭염 ④ 황사

2. 다음에서 설명하는 개념으로 가장 적절한 것은?

- 상품의 생산, 유통, 소비의 전 과정에서 생산자를 포함한 여러 경제 주체들에게 이익이 공정하게 분배되도록 하는 무역이다.
- 생산자의 노동에 상당한 대가를 지급하고자 한다.

- ① 랜드마크 ② 공정 무역 ③ 원격 탐사 ④ 노예 무역

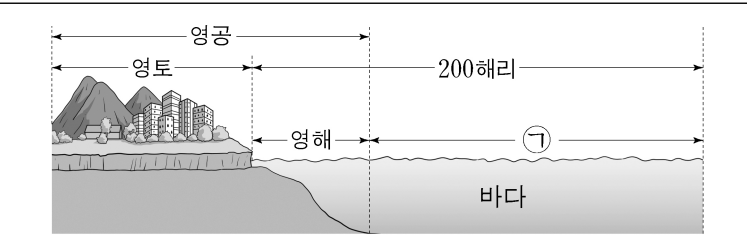
3. 다음에서 ㉠에 들어갈 주제로 가장 적절한 것은?

주제: ㉠

- 원인: 육아 부담, 결혼 연령의 상승 등
- 대책: 출산 장려금 지급, 양육 시설 확충 등

- ① 저출산 ② 난민 유입 ③ 인종 차별 ④ 지역 분쟁

4. 다음에서 ㉠에 들어갈 것은?



- ㉠ 은/는 영해 기선으로부터 200해리까지의 수역에서 영해를 제외한 수역이다.
- ㉠ 에서 연안국은 어업 활동과 천연 자원의 탐사·개발·이용·관리 등에 대한 독점적 권리를 갖는다.

- ① 백두대간 ② 개발 제한 구역
 ③ 비무장 지대(DMZ) ④ 배타적 경제 수역(EEZ)

5. 다음에서 설명하는 현상으로 가장 적절한 것은?

- 낮에는 업무나 쇼핑 등으로 도심에 사람이 모이지만 밤에는 도심 밖의 집으로 돌아가 도심이 텅 빈 것처럼 한산해지는 현상이다.
- 출·퇴근 시간대에 교통 혼잡을 불러일으키기도 한다.

- ① 슬럼화 ② 이촌 향도 ③ 인구 공동화 ④ 성비 불균형

6. 다음에서 설명하는 섬은?

- 우리나라에서 제일 큰 섬이며, 화산 활동으로 형성되었다.
- 대표적인 자연 경관으로 한라산, 성산 일출봉, 만장굴 등이 있다.

- ① 독도 ② 울릉도 ③ 제주도 ④ 마안도

7. 다음에서 설명하는 발전 방식은?

- 밀물과 썰물의 수위 차이를 이용하여 전기를 생산한다.
- 우리나라 시화호 발전소의 발전 방식이다.

- ① 화력 발전 ② 조력 발전 ③ 지열 발전 ④ 원자력 발전

8. 다음에서 설명하는 기후는?

- 가장 따뜻한 달의 평균 기온이 10℃ 미만이다.
- 전통적으로 주민들은 순록 유목, 수렵, 어로 활동을 한다.
- 얼었던 땅이 여름에 녹아 건물이 기울어지는 것을 막기 위해 고상 가옥을 짓기도 한다.

- ① 열대 기후 ② 건조 기후 ③ 온대 기후 ④ 한대 기후

9. 다음에서 설명하는 집단은?

- 구성원들 간에 직접적이고 친밀한 상호 작용이 이루어진다.
- 대표적인 예로 가족, 또래 집단 등을 들 수 있다.

- ① 외집단 ② 1차 집단 ③ 2차 집단 ④ 이익 집단

10. 다음에서 ㉠에 들어갈 주제는?

주제: ㉠

- 의미: 다른 사회의 문화는 우수한 것으로 여기고, 자신의 문화는 열등한 것으로 여기는 태도.
- 장·단점: 선진 문물을 받아들이는 데 도움을 주기도 하지만, 자기 문화의 주체성을 잃을 수 있음.

- ① 문화 사대주의 ② 문화 상대주의
 ③ 문화 제국주의 ④ 자문화 중심주의

11. 다음 중 '노동 3권'에 해당하지 않는 권리는?

- ① 단결권 ② 단체 교섭권
 ③ 단체 행동권 ④ 재판 청구권

12. 다음에서 설명하는 법은?

- 범죄의 종류와 처벌의 기준을 정한 법이다.
- 공적인 생활 영역을 다루는 공법으로 분류된다.

- ① 민법 ② 형법 ③ 상법 ④ 소비자 기본법

13. 감사원의 기능으로 옳은 것은?

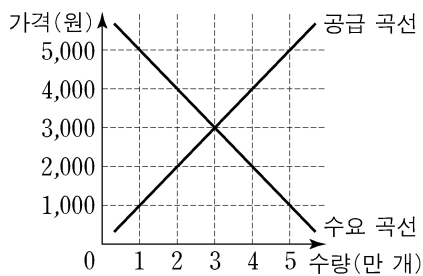
- ① 법률을 제정하거나 개정한다.
- ② 재판을 통해 분쟁을 해결한다.
- ③ 선거와 국민 투표를 공정하게 관리한다.
- ④ 행정 기관 및 공무원의 직무를 감찰한다.

14. 다음에서 설명하는 금융 상품은?

○ 기업이 자본금을 마련하기 위해 발행한 것으로 이를 소유한 사람을 주주라고 한다.
○ 일반적으로 수익성이 높은 만큼 위험성도 높다.

- ① 주식 ② 보험 ③ 적금 ④ 예금

15. 그래프는 빵 시장의 수요·공급 곡선을 나타낸 것이다. 빵의 균형 가격과 균형 거래량은?



- | 균형 가격 | 균형 거래량 | 균형 가격 | 균형 거래량 |
|----------|--------|----------|--------|
| ① 1,000원 | 1만 개 | ② 2,000원 | 4만 개 |
| ③ 3,000원 | 3만 개 | ④ 4,000원 | 2만 개 |

16. 다음에서 설명하는 개념은?

한 개인이 가지는 둘 이상의 지위에 서로 다른 역할이 동시에 요구될 때, 어떤 역할을 우선적으로 수행해야 할지를 두고 느끼는 내적 고민이다.

- ① 재사회화 ② 역할 갈등 ③ 귀속 지위 ④ 상호 작용

17. 다음 유적이 처음으로 만들어진 시대의 생활 모습으로 가장 적절한 것은?



- ① 주로 동굴에서 생활하였다.
- ② 농경과 목축을 시작하였다.
- ③ 철제 농기구를 사용하였다.
- ④ 지배자인 군장이 등장하였다.

18. 다음 정책을 시행한 고구려의 왕은?

○ 불교 수용 ○ 태학 설립 ○ 율령 반포

- ① 광종 ② 세종 ③ 의자왕 ④ 소수림왕

19. 조선 광해군의 정책으로 옳은 것은?

- ① 훈민정음 창제 ② 수원 화성 축조
- ③ 중립 외교 추진 ④ 노비안검법 시행

20. 다음에서 ㉠에 들어갈 정책은?

조선 영조는 붕당 간의 대립을 완화하고자 ㉠을/를 실시하여 노론과 소론의 온건파를 중심으로 각 붕당의 인물들을 고르게 등용하였다.

- ① 탕평책 ② 진대법 ③ 사창제 ④ 독서삼품과


21. 다음에서 ㉠에 들어갈 내용은?

〈거란의 침략과 격퇴〉
○ 1차 침략: 서희의 외교 담판으로 ㉠.
○ 2차 침략: 양규 등의 활약으로 거란군을 물리침.
○ 3차 침략: 강감찬 등이 귀주에서 거란군을 격퇴함.

- ① 우산국을 정복함 ② 강동 6주를 획득함
- ③ 4군 6진을 개척함 ④ 쓰시마 섬을 정벌함

22. 다음 대화 내용에 해당하는 신라의 인물은?

나무아미타불만 외우면 극락에 갈 수 있다고 하여 불교 대중화에 힘썼어.
또 불교 종파 간의 사상적 대립을 조화시키려고 노력하였지.



- ① 원효 ② 김홍도 ③ 이성계 ④ 정약용

23. 다음에서 설명하는 단체는?

○ 1907년 안창호, 양기탁 등이 조직한 비밀 결사
○ 대성 학교, 오산 학교를 설립하여 민족 교육 실시
○ 일제가 조작한 105인 사건으로 해체

- ① 삼별초 ② 화랑도 ③ 신민회 ④ 별무반

24. 다음에서 ㉠에 들어갈 사건은?

학생 ㉠에 대해 알려 주세요.
교사 1987년 대통령 선거를 앞두고 야당과 학생, 시민은 대통령 직선제로의 개헌을 요구하는 시위를 벌였습니다. 전국적으로 시위가 계속되자 정부와 여당은 대통령 직선제를 수용하였습니다.

- ① 3·1 운동 ② 6·25 전쟁
- ③ 6월 민주 항쟁 ④ 동학 농민 운동

25. 다음에서 ㉠에 들어갈 내용으로 가장 적절한 것은?

〈물산 장려 운동〉
○ 평양에서 시작하여 전국으로 확산됨.
○ '내 살림 내 것으로'라는 구호를 내세움.
○ ㉠을/를 통해 민족 산업을 육성하고자 함.

- ① 대동법 실시 ② 국산품 애용
- ③ 표준어 제정 ④ 지계 발급 추진