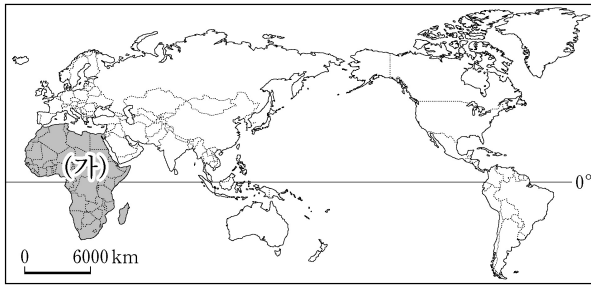


1. (가) 대륙의 명칭은?



- ① 유럽
- ② 아시아
- ③ 아프리카
- ④ 아메리카

2. 서부 유럽 지역에서 발달한 농업 유형을 <보기>에서 고른 것은?

<보기>

ㄱ. 낙농업	ㄴ. 혼합 농업
ㄷ. 플랜테이션	ㄹ. 오아시스 농업

- ① ㄱ, ㄴ
- ② ㄱ, ㄷ
- ③ ㄴ, ㄹ
- ④ ㄷ, ㄹ

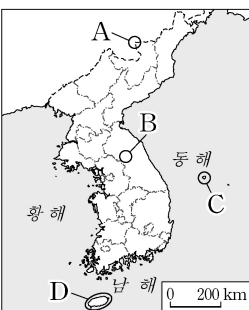
3. 다음에 해당하는 기후는?

- 여름철은 덥고 건조하며, 겨울철은 비교적 따뜻하고 비가 자주 내림.
- 올리브, 포도 등의 작물을 재배하는 수목 농업 발달

- ① 냉대 기후
- ② 툰드라 기후
- ③ 지중해성 기후
- ④ 열대 우림 기후

4. 다음 경관을 모두 볼 수 있는 지역을 지도에서 고른 것은?

백록담, 만장굴, 주상 절리, 성산 일출봉



- ① A
- ② B
- ③ C
- ④ D

5. 다음에서 설명하는 자연재해는?

- 적도 부근 해상에서 발생해 중위도 지방으로 이동하는 열대 저기압
- 2005년 '나비'의 영향으로 많은 인명·재산 피해 발생

- ① 지진
- ② 태풍
- ③ 화산
- ④ 가뭄

6. 다음에서 설명하는 것은?

- 특정 지역의 우수한 농산물, 가공품에 지역 이름을 표시하여 상표권, 지적 재산권을 보장
- 보성 녹차, 이천 쌀, 횡성 한우가 대표적인 사례

- ① 슬로 시티
- ② 공정 무역
- ③ 전통 마을
- ④ 지리적 표시제

7. (가)에 들어갈 용어는?

1960년대 우리나라 인구 이동의 특징은 무엇일까?

농촌의 인구가 일자리를 찾아 도시로 이동하는 (가) 현상이 뚜렷하게 나타나기 시작했다.

- ① 지역화
- ② 역도시화
- ③ 이촌 향도
- ④ 국제 이주

8. 다음에서 설명하는 환경 문제는?

- 특징 - 대기 오염 물질 농도가 높은 지역에서 주로 발생
- 바람을 타고 오염 물질이 이동해 다른 지역에 영향
- 피해 - 건축물과 조각상의 부식
- 토양과 호수의 산성도를 높여 생태계 파괴

- ① 산성비
- ② 사막화
- ③ 원유 유출
- ④ 지구 온난화

9. 다음에서 설명하는 민주 정치의 기본 원리는?

- 대한민국의 주권은 국민에게 있고, 모든 권력은 국민으로부터 나온다. (헌법 제1조 제2항)
- 정치권력은 국민의 동의와 지지를 바탕으로 형성되고 행사되어야 한다.

- ① 법치주의
- ② 입헌주의
- ③ 국민 주권
- ④ 권력 분립

10. 다음에서 설명하는 제도는?

- 풀뿌리 민주주의의 초석
- 지역 주민이 자신들의 대표로 구성된 지방 정부를 통해 지역 문제를 자율적으로 처리하는 것

- ① 선거 공영제
- ② 지방 자치제
- ③ 의원 내각제
- ④ 입헌 군주제

11. 다음 내용에 해당하는 경제 주체는?

- 생산과 소비의 주체
- 세금을 바탕으로 국방, 치안, 도로 등의 공공재 생산
- 공공 업무 수행에 필요한 재화와 서비스를 소비

- ① 정부
- ② 기업
- ③ 가게
- ④ 외국

12. 표는 아이스크림의 수요량과 공급량을 나타낸 것이다. 아이스크림의 균형 가격은? (단, 다른 조건은 일정함.)

가격(원)	수요량(개)	공급량(개)
800	500	100
900	400	200
1,000	300	300
1,100	200	400

- ① 800원
- ② 900원
- ③ 1,000원
- ④ 1,100원

13. 제시된 법들의 공통적인 목적으로 가장 적절한 것은?

- 노동법 - 최저 임금법, 근로 기준법
- 경제법 - 독점 규제 및 공정 거래에 관한 법률, 소비자 기본법
- 사회 보장법 - 국민 연금법, 국민 기초 생활 보장법

- ① 공정한 선거 보장
- ② 행정부의 권력 견제
- ③ 재판의 절차와 방법 간소화
- ④ 최소한의 인간다운 생활 보장

14. 다음과 같은 사건을 해결하는 재판은?

- 땅이나 집의 소유권에 대한 다툼
- 돈을 빌려 주고 빌리는 관계에서 일어난 다툼
- 개인 사이의 권리, 의무에 대한 분쟁

- ① 민사 재판 ② 선거 재판 ③ 가사 재판 ④ 행정 재판

15. 다음과 같은 권한을 행사하는 국가 기관은?

- 법의 제정 및 개정 ○ 예산안 심의와 확정
- 국정 감사와 국정 조사

- ① 법원 ② 국회 ③ 행정부 ④ 헌법 재판소

16. 다음에서 설명하는 경제 용어는?

- 물가가 지속적으로 오르는 현상
- 화폐 가치가 하락하여 경제생활에 영향을 줌

- ① 기회비용 ② 국제 수지 ③ 수요 법칙 ④ 인플레이션

17. (가)에 들어갈 칭호는?

(가) 은/는 제사장이자 정치적 지배자를 의미하는 칭호로, 고조선이 제정일치 사회였음을 보여준다.

- ① 우가 ② 마립간 ③ 상대등 ④ 단군왕검

18. 자료에 해당하는 인물은?

◆ 우리나라의 역사 인물 ◆

- 신흥 무인 세력으로 흥건적과 왜구를 격퇴
- 급진파 신진 사대부와 손을 잡아 조선을 건국하면서 왕으로 즉위

- ① 견훤 ② 이성계 ③ 대조영 ④ 박혁거세

19. (가)에 해당하는 내용으로 적절한 것은?

〈수행 평가 계획서〉

주제: 조선 정조의 업적 알아보기

1. 규장각 설치 2. 장용영 창설 3. _____ (가)

- ① 당백전 발행 ② 훈민정음 창제
- ③ 4군 6진 개척 ④ 수원 화성 건설

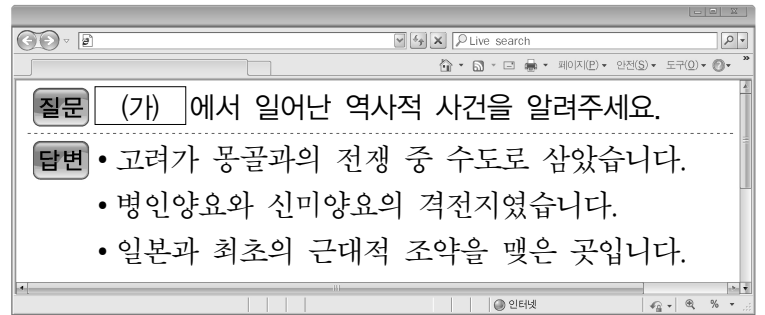
20. 다음에 설명하는 고구려왕은?

〈고구려의 발전〉

- 신라에 침입한 왜군을 격파
- 만주와 한반도 중부에 이르는 영토 확장
- 그의 아들 장수왕이 업적을 기리기 위해 비석 건립

- ① 법흥왕 ② 무령왕 ③ 고이왕 ④ 광개토 대왕

21. (가)에 들어갈 지역은?




- ① 진도 ② 강화도 ③ 거문도 ④ 제주도

22. 다음 대화의 내용에 해당하는 종교는?

최재우가 창시한 종교는 인내천을 내세워 농민의 지지를 받았지?

응. 접주였던 전봉준은 농민 운동을 이끌었어.



- ① 도교 ② 동학 ③ 원불교 ④ 대중교

23. 다음과 관련된 문제는?

일제는 중·일 전쟁과 태평양 전쟁을 치르면서 수많은 여성을 전쟁터로 끌고 다니며 성적 희생을 강요했다.

- ① 일본군 '위안부'
- ② 일본 정치인들의 신사 참배
- ③ 일본의 독도 영유권에 대한 억지 주장
- ④ 일본으로 강제 징용된 한국인 노동자들에 대한 배상

24. 밑줄 친 ㉠에 해당하는 사건은?

삼국 간섭을 계기로 조선이 러시아를 끌어들였다. 그러자 일본은 조선에서 약화된 영향력을 만회하기 위해 ㉠ 명성황후를 시해하였다.

- ① 을미사변 ② 갑오개혁 ③ 임오군란 ④ 간도 협약

25. 다음 설명이 배경이 되어 나타난 역사적 사실은?

10·26 사태(1979) 이후 시민들의 민주화 요구가 높아졌다. 그러자 신군부는 비상 계엄을 전국으로 확대하였고 광주에는 계엄군을 투입하였다.

- ① 4·19 혁명 ② 새마을 운동
- ③ 5·18 민주화 운동 ④ 부·마 민주 항쟁