

제 ③ 교시

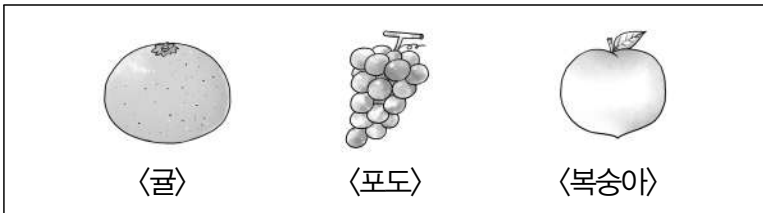
실과

1. 다음 설명에 해당하는 시기는?

- 초등학생 시기에 해당한다.
- 신체적으로 성장하면서 남녀의 구분이 뚜렷해진다.

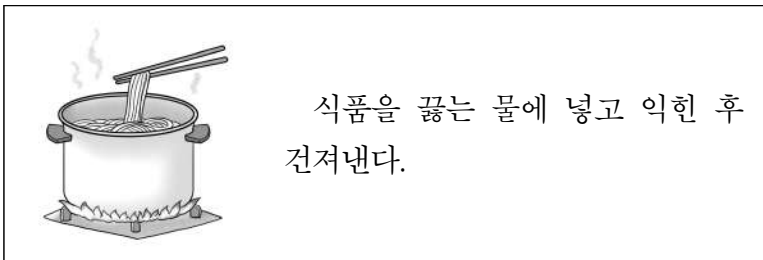
- ① 영·유아기                      ② 아동기
- ③ 청년기                         ④ 노년기

2. 그림의 식품들이 속하는 식품군은?



- ① 곡류                              ② 과일류
- ③ 유지·당류                      ④ 고기·생선·달걀·콩류

3. 다음 설명에 해당하는 조리 방법은?



- ① 굽기                              ② 삶기
- ③ 부치기                         ④ 튀기기

4. 식생활에 해당하는 것은?

- ① 빨래하기                      ② 조리하기
- ③ 다림질하기                    ④ 옷 손질하기

5. 정보기기에 해당하지 않는 것은?

- ① 지우개                         ② 컴퓨터
- ③ 스마트폰                      ④ 디지털 카메라

6. 상황에 따른 옷차림으로 적절하지 않은 것은?

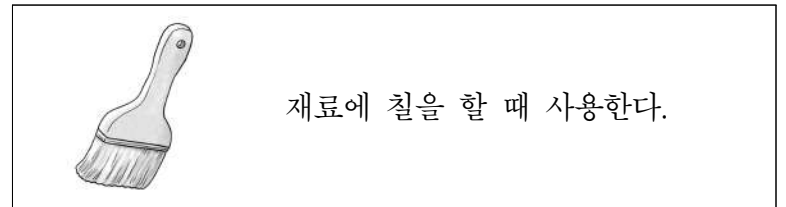
- ① 불을 끌 때 안전을 위해 소방복을 입는다.
- ② 우주에서 몸을 보호하기 위해 우주복을 입는다.
- ③ 추위로부터 체온을 유지하기 위해 방한복을 입는다.
- ④ 물의 저항을 줄여 빠르게 헤엄치기 위해 경찰복을 입는다.

7. 창의적인 제품을 만드는 과정을 순서대로 바르게 배열한 것은?

ㄱ. 평가하기                      ㄴ. 실행하기                      ㄷ. 계획하기

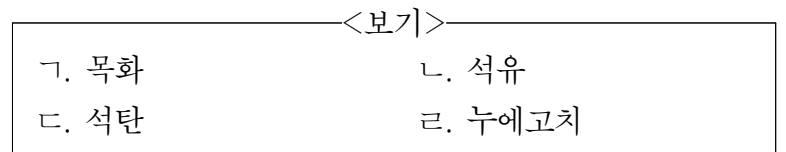
- ① ㄱ-ㄴ-ㄷ                      ② ㄱ-ㄷ-ㄴ
- ③ ㄴ-ㄱ-ㄷ                      ④ ㄷ-ㄴ-ㄱ

8. 다음 설명에 해당하는 공구는?



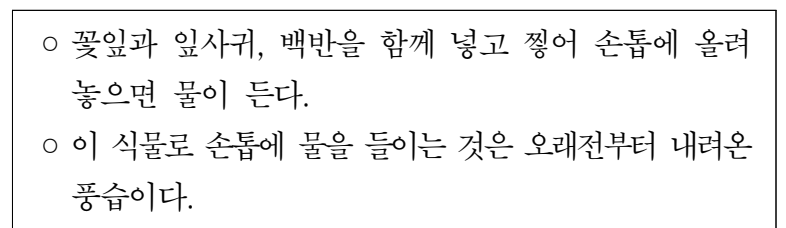
- ① 붓                              ② 톱                              ③ 송곳                              ④ 줄자

9. 천연 섬유 원료를 <보기>에서 고른 것은?



- ① ㄱ, ㄴ                      ② ㄱ, ㄹ                      ③ ㄴ, ㄷ                      ④ ㄷ, ㄹ

10. 다음 설명에 해당하는 식물은?



- ① 버섯                              ② 고사리
- ③ 봉선화                         ④ 소나무

11. 다음 ㉠에 공통으로 들어갈 것은?

- ㉠ 농법은 친환경 농법의 하나이다.
- ㉠의 배설물은 자연 비료가 되고, 땅속으로 다닌 길은 공기의 통로가 되어 작물이 잘 자랄 수 있게 해 준다.


- ① 강아지                                      ② 지렁이
- ③ 고슴도치                                    ④ 무당벌레

12. 다음 설명에 해당하는 것은?

글, 그림, 음악, 영화 등에 대해 창작한 사람이 갖게 되는 권리

- ① 저작권                                      ② 스토리보드
- ③ 사이버 공간                                ④ 인터넷 중독

13. 다음 설명에 해당하는 재활용품의 분리·배출 표시는?



- 신문, 잡지 등으로 구분하여 배출한다.
- 비닐 코팅을 제거한 후 배출한다.

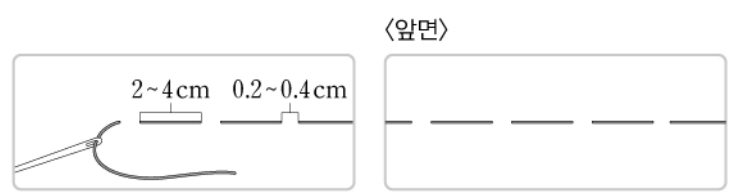
- ①  유리
- ②  캔류
- ③  종이
- ④  플라스틱

14. 방학 중 생활 계획표를 통해 관리할 수 있는 생활 자원은?



- ① 건물                                      ② 공원                                      ③ 도로                                      ④ 시간

15. 다음에서 설명하고 있는 손바느질 방법은?



〈앞면〉

- 천을 임시로 고정할 때에 사용한다.
- 흠질과 비슷하지만 바늘땀을 더 길게 뜬다.

- ① 감침질                                      ② 뜨개질                                      ③ 박음질                                      ④ 시침질

16. 전기 에너지를 소리의 형태로 이용하는 것은?

- ① 건전지                                      ② 다리미
- ③ 라디오                                      ④ 형광등

17. 사람을 대신하여 작업 현장에서 노동을 하는 산업용 로봇으로 적절하지 않은 것은?

- ① 애완 로봇                                      ② 용접 로봇
- ③ 운반 로봇                                      ④ 조립 로봇

18. 다음 설명에 해당하는 환경 요소는?

- 식물에게 양분을 공급해 준다.
- 식물이 뿌리를 내려 자랄 때 쓰러지지 않게 도와준다.


- ① 흙                                              ② 공기
- ③ 온도                                              ④ 햇빛

19. 사육하기 위해 다음과 같은 준비물이 필요한 애완동물은?

참나무 톱밥, 먹이 고정용 나무, 곤충 젤리, 사육통

- ① 금붕어                                      ② 열대어
- ③ 미꾸라지                                      ④ 장수풍뎅이

20. 다음 설명에 해당하는 직업은?



음식점에서 음식 만드는 일을 한다.

- ① 교사                                              ② 기자
- ③ 요리사                                              ④ 환경미화원