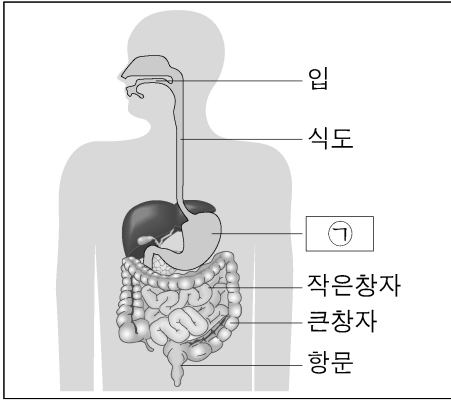


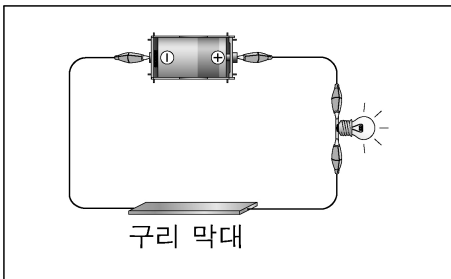


11. 소화 기관에서 ㉠에 해당하는 것은?



- ① 간
- ② 위
- ③ 심장
- ④ 콩팥

12. 다음 중 구리 막대 대신 넣었을 때 전구에 불이 켜지는 것은?



- ① 철 막대
- ② 유리 막대
- ③ 고무지우개
- ④ 나무젓가락

13. 다음 중 사물을 확대하여 볼 수 있게 해 주는 것은?

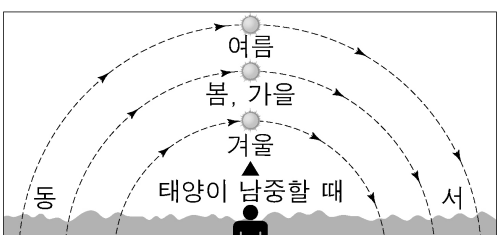
- ① 연필
- ② 평면거울
- ③ 돋보기안경
- ④ 종이테이프

14. 표는 50m 달리기 경기 기록을 나타낸 것이다. 가장 느리게 달린 학생은?

학생	(가)	(나)	(다)	(라)
걸린 시간	10초	15초	20초	25초

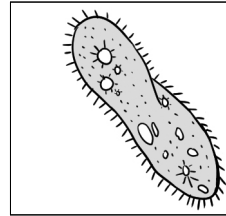
- ① (가)
- ② (나)
- ③ (다)
- ④ (라)

15. 그림은 우리나라의 남쪽 하늘을 지나는 태양의 위치를 계절별로 나타낸 것이다. 태양의 남중 고도가 가장 높은 계절은?



- ① 봄
- ② 여름
- ③ 가을
- ④ 겨울

16. 다음 설명에 해당하는 생물은?



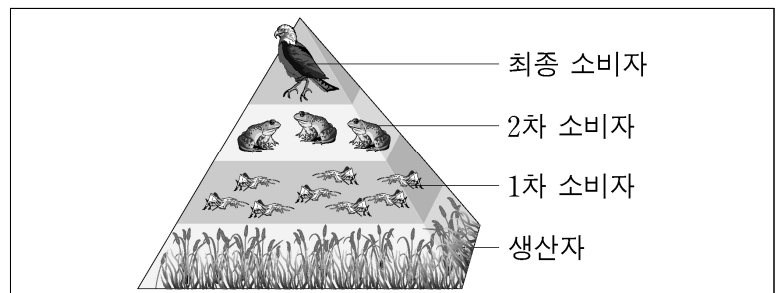
- 짙은 모양이고 바깥쪽에 가는 털이 있다.
- 논이나 하천과 같이 물이 고인 곳이나 물살이 느린 하천에 산다.

- ① 버섯
- ② 해감
- ③ 짙신벌레
- ④ 유글레나

17. 다음 중 화재 발생 시 행동으로 알맞지 않은 것은?

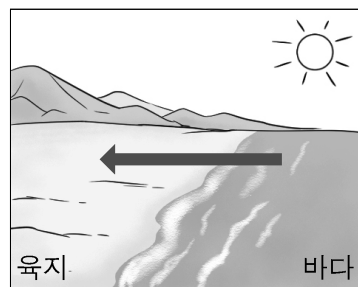
- ① 119에 화재 발생 신고를 한다.
- ② “불이야!”하고 큰 소리로 외친다.
- ③ 대피하지 않고 불이 난 곳에 가만히 있다.
- ④ 젖은 수건으로 코와 입을 가리고 몸을 낮춰 대피한다.

18. 그림의 생태 피라미드에서 생물의 수와 양이 가장 많은 생물 요소는?



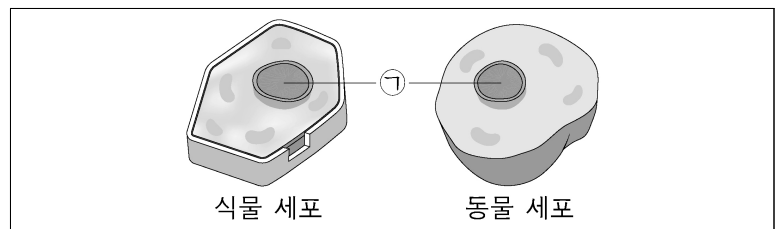
- ① 생산자
- ② 1차 소비자
- ③ 2차 소비자
- ④ 최종 소비자

19. 그림과 같이 바다에서 육지로 부는 바람의 이름은?



- ① 밀물
- ② 썰물
- ③ 파도
- ④ 해풍

20. 그림에서 ㉠에 해당하는 것은?



- ① 핵
- ② 표피
- ③ 세포막
- ④ 세포벽