

# 제 ③ 교시 음악

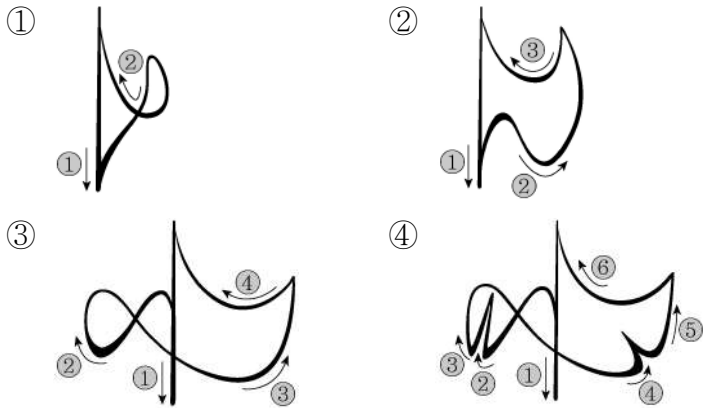
[1~2] 「산바람 강바람」의 일부이다. 물음에 답하시오.



1. ①에 해당하는 것은?

- ① 내림표                      ② 올림표
- ③ 셈여림표                 ④ 높은음자리표

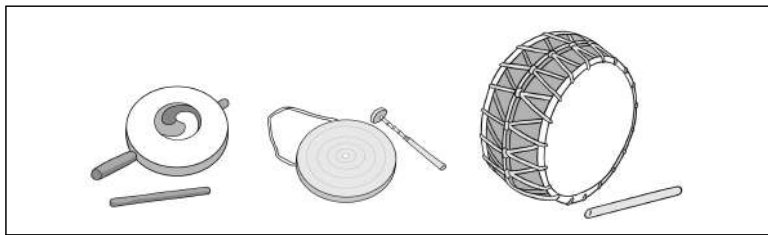
2. 위 곡의 박자 짓기로 알맞은 것은?



3. '여리게'를 나타내는 셈여림 기호는?

- ① *p*                      ② *mp*                      ③ *mf*                      ④ *f*

4. 그림에 해당하는 악기 종류는?



- ① 타악기                      ② 현악기                      ③ 가락악기                      ④ 건반악기

5. ①에 알맞은 박자는?

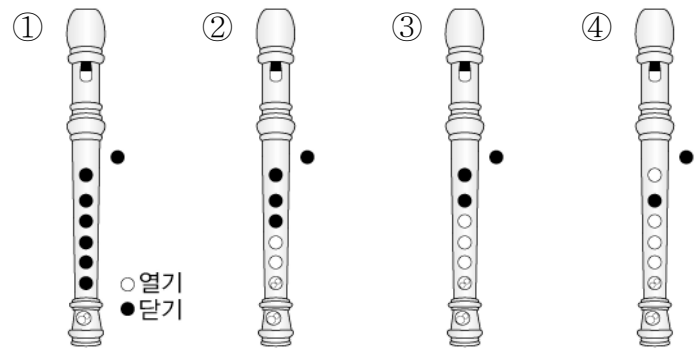


- ①  $\frac{2}{4}$                       ②  $\frac{3}{4}$                       ③  $\frac{4}{4}$                       ④  $\frac{6}{8}$

[6~7] 「도레미 노래」의 일부이다. 물음에 답하시오.




6. ①을 소프라노 리코더로 바르게 연주한 것은?



7. ①에 들어갈 쉼표는?

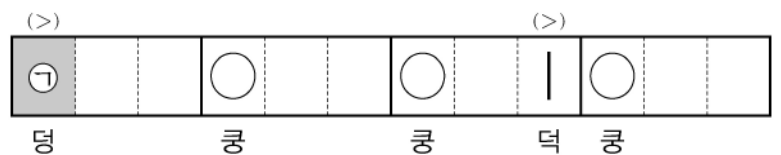
- ①                      ②                      ③                      ④

8. 그림에 해당하는 연주 형태는?



- ① 독주                      ② 합주                      ③ 삼중주                      ④ 사중주

9. 다음은 장구 장단보이다. ①에 알맞은 부호는?




- ① ①                      ② ○                      ③ |                      ④ i

10. 다음에 해당하는 음악은?



- ① 민요    ② 범패    ③ 제례악    ④ 수제천

11. 풍물놀이에 쓰이지 않는 악기는?



- ① 북    ② 징    ③ 아쟁    ④ 장구

12. ㉠을 바르게 표현한 가락선은?



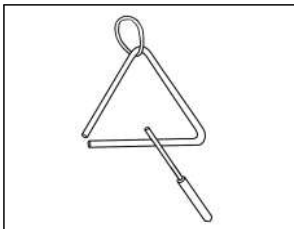
- ①    ②    ③    ④

13. 그림에 해당하는 노래 형태는?



- ① 독창    ② 제창  
③ 중창    ④ 합창

14. 다음 악기를 연주하는 방법은?



- ① 붙어서 소리낸다.    ② 채로 쳐서 소리낸다.  
③ 줄을 문질러서 소리낸다.    ④ 건반을 눌러서 소리낸다.

15. 음의 길이를 2~3배 늘여서 연주하라는 뜻의 악상 기호는?

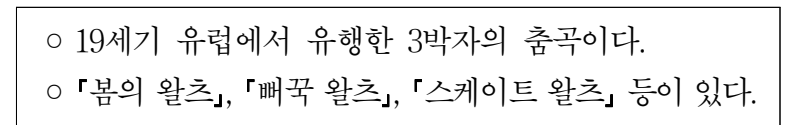
- ①    ②    ③    ④

16. 다음 감상문의 내용에 해당하는 음악은?




- ① 산조    ② 시나위    ③ 판소리    ④ 사물놀이

17. 다음 설명에 해당하는 것은?



- ① 왈츠    ② 탈춤    ③ 학무    ④ 부채춤

18. 그림에 해당하는 악기 이름은?



- ① 장구    ② 피리    ③ 가야금    ④ 태평소

[19~20] 「강강술래」의 일부이다. 물음에 답하시오.



19. 위 곡에 알맞은 형식은?

- ① 론도 형식    ② 연음 형식  
③ 소나타 형식    ④ 메기고 받는 형식

20. ㉠을 표현하는 방법은?

- ① 꺾어서 소리낸다.    ② 떨어져 소리낸다.  
③ 받아서 소리낸다.    ④ 평으로 소리낸다.