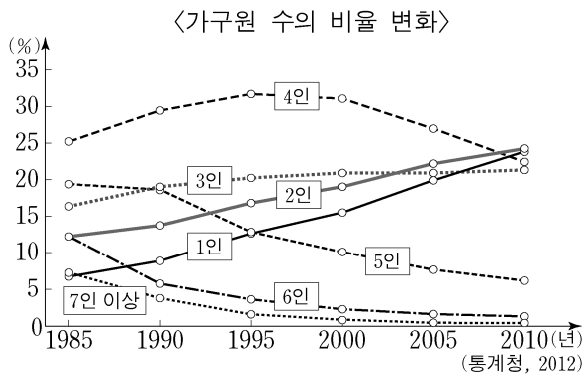


1. 다음 내용이 의미하는 것은?

○ 자신에 대한 통합적이고 총체적인 관념이다.
○ 다른 사람과 구분되는 자신의 독특한 모습을 인식하는 것이다.

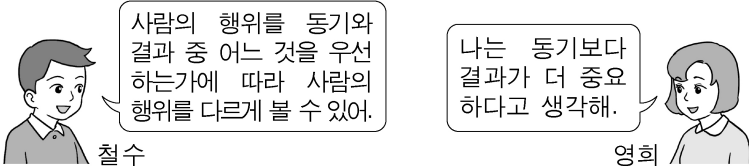
- ① 재사회화 ② 역할 갈등
③ 자아 정체성 ④ 사회적 상호 작용

2. 자료에 대한 분석으로 옳지 않은 것은?



- ① 사회 현상을 수치화하여 그래프로 나타낸 것이다.
② 1인 가구원 수의 비율이 증가하고 있음을 알 수 있다.
③ 시간의 흐름에 따른 가구원 수의 비율 변화를 알 수 있다.
④ 5인 가구원 수의 비율은 계속 증가하고 있음을 알 수 있다.

3. 대화에 나타난 영희의 생각과 가장 가까운 것은?



- ① 선한 동기는 대체로 선한 결과를 초래한다.
② 바람직한 사회적 결과를 낳는 행위가 선이다.
③ 결과를 중시하지 않는 순수한 행동만이 선한 행동이다.
④ 좋은 결과라도 동기가 선하지 않으면 그 행위는 선이 아니다.

4. 다음 내용에 해당하는 기본권은?

모든 국민은 성별이나 종교, 사회적 지위 등을 이유로 차별받지 않을 권리를 가지고 있다.

- ① 평등권 ② 자유권 ③ 청구권 ④ 사회권

5. 자유 민주적 기본 질서를 유지하기 위한 방법으로 볼 수 없는 것은?

- ① 복수 정당제 실시 ② 권력 분립 제도 도입
③ 실질적 법치주의 실천 ④ 언론에 대한 검열과 통제

6. 다음과 같은 문화 이해의 태도는?

자기 문화가 다른 문화보다 우월하다고 믿고 자기 문화의 기준에 따라 다른 문화를 평가한다.

- ① 문화 상대주의 ② 문화 사대주의
③ 자문화 중심주의 ④ 극단적 문화 상대주의

7. 고령화에 따른 사회 문제로 적절한 것은?

- ① 노인을 위한 사회 복지비가 감소한다.
② 노인 빈곤이나 소외 등의 문제가 나타난다.
③ 노인 세대의 정치적·사회적 영향력이 작아진다.
④ 생산 가능 인구가 증가하여 경제 성장이 가속화된다.

8. 다음에서 설명하는 자산 관리의 원칙은?

○ 투자한 자산의 가치가 보호될 수 있는 정도를 의미한다.
○ 금융 상품의 경우 원금의 가치가 손해 없이 잘 보전되는 정도를 의미한다.

- ① 안전성 ② 수익성 ③ 유동성 ④ 투기성

9. 삶의 질 향상을 위해 개인이 할 수 있는 노력은?

- ① 기부와 사회봉사
② 여성 고용 할당제 도입
③ 지역 격차 해소 정책 실시
④ 독과점이나 불공정 거래 행위 규제

10. 다음에 해당하는 근로자의 권리는?

○ 근로자가 근로 조건의 개선 요구를 관철하기 위해 사용자에게 압력을 행사할 수 있는 권리이다.
○ 불매 운동, 감시 행위 등과 같은 쟁의 행위가 있다.

- ① 단결권 ② 참정권
③ 단체 행동권 ④ 단체 교섭권

11. 다음 내용이 의미하는 것은?

○ 근로자의 성취감을 높여주고 근로의욕을 북돋아 준다.
○ 스스로 만족을 얻기 위한 여행이나 영화 관람 등의 자유로운 시간을 말한다.

- ① 일 ② 여가 ③ 창업 ④ 직업

12. 국제 경제활동 증가의 영향으로 적절하지 않은 것은?

- ① 국가 간 상호 의존성이 증가한다.
② 국경을 초월한 금융 거래가 늘어난다.
③ 생산 요소의 국가 간 이동이 활발해진다.
④ 국내 시장에 외국인의 직·간접 투자가 감소한다.

13. 사회적 약자를 보호하기 위한 정책으로 적절하지 않은 것은?

- ① 노인 복지 제도 확대
② 부자 감세 제도 도입
③ 장애인 의무 고용제 시행
④ 국민 기초 생활 보장 정책 실시

14. 다음에서 설명하는 것은?

정부, 공공 기관, 회사 등이 자금을 빌리기 위해 발행하는 증서를 말한다.

- ① 예금 ② 주식 ③ 채권 ④ 부동산

15. 다음에서 설명하는 것은?

- 사람의 접근이 어려운 지역의 공간 정보를 수집하는데 이용된다.
- 정해진 지구 궤도를 돌며 GPS수신기에 위치 정보를 보내준다.

- ① 나침반 ② 망원경 ③ 스캐너 ④ 인공위성

16. 다음에서 설명하는 것은?

- 분업화, 기계화 등과 함께 농업 중심 사회가 공업 중심 사회로 변모하는 현상이다.
- 도시를 중심으로 대량 생산과 대량 소비가 이루어지면서 다양한 환경 문제가 발생하였다.

- ① 개방화 ② 국제화 ③ 산업화 ④ 지역화

17. 다음에 해당하는 에너지 자원은?

- 고기 습곡 산지를 중심으로 매장되어 있다.
- 산업 혁명의 원동력으로 이용된 화석 연료이다.
- 중국, 미국 등이 주요 생산국이다.

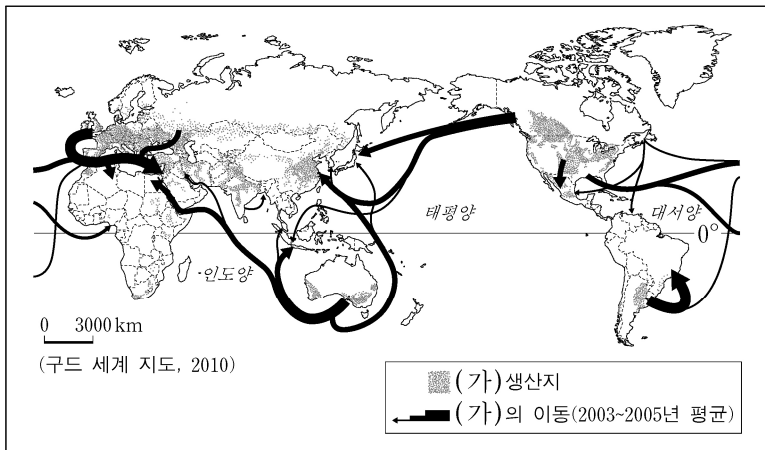
- ① 석탄 ② 석유 ③ 원자력 ④ 천연가스

18. 다음 사례가 설명하는 것은?

- 우리나라에서 여러 나라의 와인을 맛볼 수 있게 되었다.
- 난타 공연은 우리나라에서 시작되었지만 외국인들도 즐기는 문화가 되었다.

- ① 차별화 ② 양극화 ③ 세계화 ④ 도시화

19. 지도에서 (가)에 해당하는 식량 작물은?



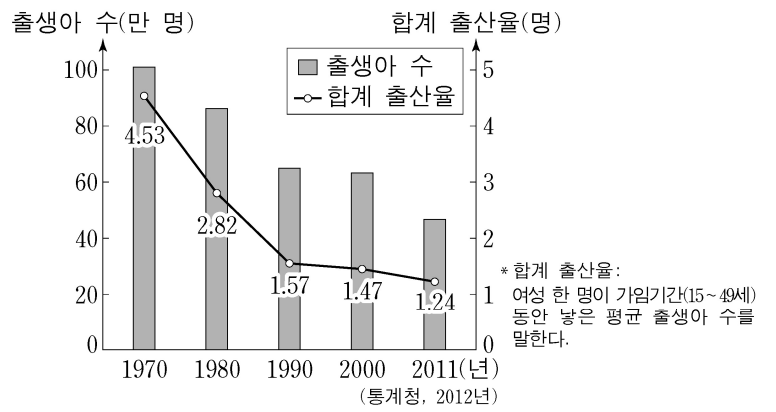
- ① 밀 ② 쌀 ③ 보리 ④ 감자

20. 다음 설명에 해당하는 곳은?

- 중국과 일본의 영토 분쟁 지역이다.
- 중국의 영토였으나 청일 전쟁 후 일본 영토에 편입되었다.
- 주변 해역에 석유와 천연가스가 대량으로 매장되어 있다.

- ① 난사 군도 ② 쿠릴 열도 ③ 시사 군도 ④ 센카쿠 열도

21. 그래프에서 1990년 이후에 나타나는 인구 문제를 해결하기 위한 인구 정책 표어로 적절하지 않은 것은?



- ① 둘도 많다. 하나만 낳아 잘 기르자!
② 자녀에게 가장 좋은 선물은 동생입니다.
③ 하나보다는 둘, 둘보다는 셋이 좋은 세상!
④ 가가호호 아이 둘 셋, 하하호호 희망 한국!

22. 다음에서 설명하는 자원은?

- 첨단 산업에 꼭 필요한 희귀 원소로 란탄, 세륨 등의 17개 원소를 말한다.
- 스마트폰, 반도체, 태양광 전지 등에 두루 쓰인다.

- ① 구리 ② 희토류 ③ 철광석 ④ 보크사이트

23. 다음에서 나타내고자 하는 환경문제로 가장 적절한 것은?



- ① 사막화 ② 산성비
③ 미세 먼지 ④ 지구 온난화

24. 다음에 해당하는 지역은?

- 아랍인과 유대인이 대립하고 있는 지역이다.
- 제2차 세계 대전 후 이스라엘 건국으로 분쟁이 심화되었다.
- 이스라엘과 아랍국 간의 중동 전쟁이 일어난 곳이다.

- ① 체첸 ② 키프로스
③ 카슈미르 ④ 팔레스타인

25. 다음에서 설명하는 것은?

- 국가 간에 상품이나 서비스의 교역에서 관세 및 무역 장벽을 완화하거나 제거하는 양자 간의 경제 협정을 말한다.
- 우리나라는 수출 경쟁력을 유지하고 안정적인 국외 시장의 확보를 위해 세계 여러 나라와 이 협정을 맺고 있다.

- ① EU ② FTA ③ APEC ④ ASEAN