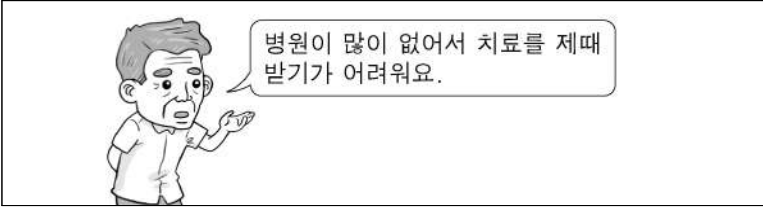


# 제 1 교시 사회

1. 다음에 해당하는 촌락의 문제는?



- ① 환경 오염                      ② 소득 감소
- ③ 교통 혼잡                      ④ 의료 시설 부족

2. 생활에 필요한 것을 자연에서 얻는 생산 활동은?

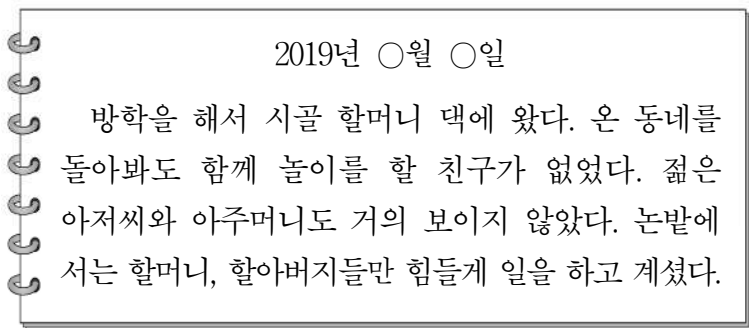
- ① 휴대전화를 만든다.
- ② 강에서 물고기를 잡는다.
- ③ 이삿짐을 화물차로 옮긴다.
- ④ 공장에서 학용품을 만든다.

3. 그림 내용에 해당하는 민주 선거의 원칙은?



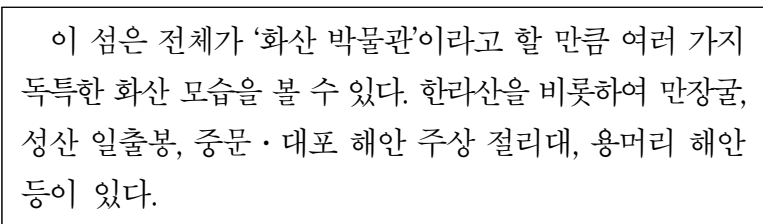
- ① 보통 선거
- ② 비밀 선거
- ③ 직접 선거
- ④ 평등 선거

4. 다음 일기에 나타난 농촌 사회의 문제는?



- ① 고령화                          ② 성차별
- ③ 인종 차별                      ④ 환경 오염

5. 다음에서 설명하는 곳은?



- ① 독도                              ② 강화도                      ③ 울릉도                      ④ 제주도

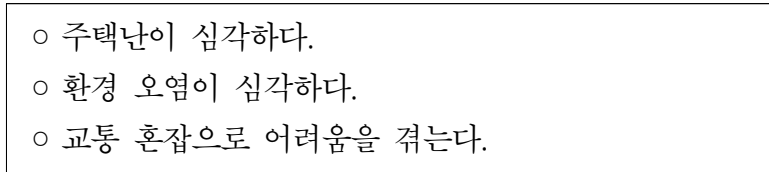
6. 다음 설명에 해당하는 것은?



- 장난감, 컴퓨터 게임, 학용품 등 다양한 분야에서 이용된다.
- 대표적인 예는 '뽀로로', '타요 버스' 등이 있다.

- ① 축산업                          ② 조선업
- ③ 양봉업                          ④ 캐릭터 산업

7. 대도시에서 다음과 같은 문제점이 생겨나는 원인으로 가장 적절한 것은?



- ① 인구 집중                      ② 소득 증대
- ③ 일자리 부족                    ④ 미세 먼지 감소

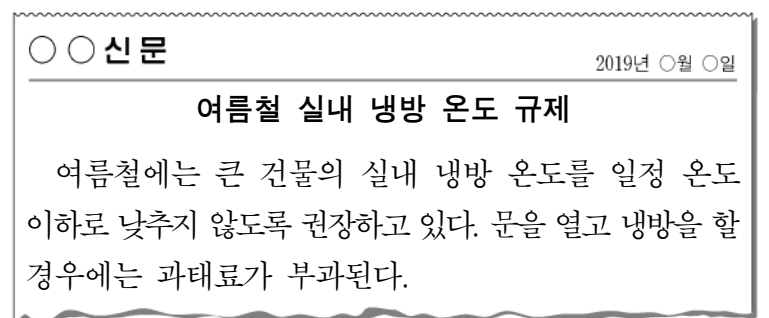
8. 다음에서 설명하는 에너지원은?



- 빛으로 에너지를 생산한다.
- 자연에 무한히 있는 에너지이다.

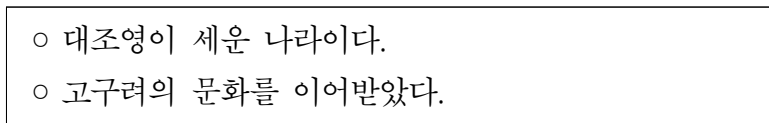
- ① 석유                              ② 석탄                              ③ 태양광                      ④ 천연가스

9. 다음 노력을 통해 해결하고자 하는 것은?



- ① 소음 공해                      ② 빈부 격차
- ③ 노사 갈등                      ④ 에너지 부족

10. 다음에서 설명하는 나라는?



- ① 백제                              ② 신라                              ③ 발해                              ④ 고조선

11. 다음은 어느 나라의 문화유산인가?



- 신비한 푸른빛의 아름다움을 지닌다.
- 표면에 그림을 그려서 파낸 자리에 다른 색의 흙을 메우고 유약을 발라 구웠다.

- ① 발해      ② 백제      ③ 고려      ④ 통일신라

12. 다음에 해당하는 것은?

- 세종대왕이 만들어 반포하였다.
- 백성을 가르치는 바른 소리라는 뜻이 담겨 있다.

- ① 훈민정음                      ② 삼국사기  
③ 동의보감                      ④ 경국대전

13. 다음에 해당하는 조선 시대의 서민 문화는?

- 소리꾼이 긴 이야기를 노래로 부르면서 몸짓과 말을 섞어 가며 공연하였다.
- 소리꾼이 즉흥적으로 내용을 더하거나 뺄 수 있었다.

- ① 민화      ② 판소리      ③ 풍속화      ④ 한글 소설

14. 다음 내용에 해당하는 사건은?

- 농민들이 폭정에 저항하여 봉기하였다.
- 전봉준이 농민군의 지도자로서 봉기를 이끌었다.

- ① 임오군란                      ② 갑신정변  
③ 갑오개혁                      ④ 동학 농민 운동

15. 다음 내용이 설명하는 것은?

- 1960년 3월 15일에 실시된 부정 선거에 항의하는 수많은 학생과 시민들이 대규모 시위를 벌였다.
- 민주주의를 억압한 독재 정권에 맞서 학생을 비롯한 시민들이 스스로의 힘으로 민주주의를 지켜 낸 사건이다.

- ① 3.1 운동                      ② 4.19 혁명  
③ 6.25 전쟁                      ④ 8.15 광복

16. 다음에서 설명하는 인물은?



- 1932년 4월, 홍커우 공원에서 단상을 향해 폭탄을 던졌다.
- 일본군 사령관을 비롯한 여러 일본 군인들이 죽거나 다쳤다.

- ① 유관순      ② 정약용      ③ 윤봉길      ④ 이순신

17. 다음 설명에 해당하는 기관은?

- 국가 안에서 일어나는 일을 법에 따라 재판한다.
- 재판에 관해서 다른 기관의 간섭을 받지 않는다.

- ① 국회      ② 법원      ③ 정부      ④ 경찰

18. 다음 설명에 해당하는 우리의 이웃 나라는?

- 수도는 베이징이다.
- 만리장성, 자금성 등이 있다.
- 전통 연극인 경극과 무술인 우슈가 유명하다.

- ① 중국      ② 일본      ③ 영국      ④ 러시아

19. 그림을 통하여 알 수 있는 정보 사회의 문제로 가장 적절한 것은?



- ① 스마트폰 중독  
② 인터넷으로 빠른 정보 획득  
③ 통신망 서비스로 편리하게 소통  
④ 상황 관찰기(CCTV)로 인한 개인 정보 침해

20. 편지에서 민서가 여행하고 있는 나라는?

수현이에게  
수현아, 나는 지금 가족과 함께 아프리카 여행 중이야.  
이곳은 피라미드와 나일강으로 유명한 나라야.  
내일은 수도인 카이로에 가 보려고 해,  
다음에는 너랑 같이 오면 좋겠어, 그럼 안녕.

2019년 ○월 ○일  
민서가

- ① 미국      ② 중국      ③ 이집트      ④ 이탈리아